



సంతోషాలు  
మళ్ళీ వస్తాయి  
(2లో...)

# ప్రజ్ఞా



పేజీలు 12

suryaapragna71@gmail.com

బుధవారం 1 మే 2024

My mom - Doctor  
My dad - Engineer  
My bro - Pilot  
**Me -??**

Which Stream should I choose?

Science or Commerce which one is the best?

Am I very good in drawing, dancing & acting?

# పదవ తరగతి తర్వాత విద్యావకాశాలు

TET / DSC English Methodology ★ మెంటల్ ఎబిలిటీ



జనరల్ సైన్స్ (3లో...)



కరెంట్ అఫైర్స్ (9లో...)



తెలంగాణ జాగ్రఫీ (10లో)

# వాటి పరీక్షల ప్రత్యేకం

# సంతోషాలు మళ్ళీ వస్తాయి

జీవితంలో జరిగే ఒక దురదృష్టం మరో గొప్ప అదృష్టానికి దారితీస్తుంది. జీవితంలో జరిగే ఒక అవమానం మరో గొప్ప రాజకీయానికి దారితీస్తుంది. దీనిని గమనించుకుంటే మన జీవితానికి గొప్ప ఊరట లభిస్తుంది. రేపటి రోజు బాగుంటుందనే కదా ఈ రోజున మనం బ్రతికేది. ఈ ఆశావాదం గనక లేకపోతే జీవితాలపై ఆశలు వదులుకోవలసివచ్చేది. చావు అంచువరకూ వెళ్ళి తృటిలో తప్పించుకొని ఆనక కారణ జన్ములుగా మారిన వారూ ఉన్నారు. చాలా మంది పెద్దలు చెప్పేదేమంటే జీవితంలో ఒకటి, రెండు దెబ్బలు తగలాలి. అప్పుడే రాణుడవ్వాలి. అలా కాక కంప్లెట్ జీవితానికి అలవాటుపడితే పరిస్థితులు ఏ కొంచెం మారినా తట్టుకోలేరు.

నేటి యువతకు ప్రతీదీ ఓవర్నైట్లో జరగ వలసి వచ్చేది. ఆగలేరు. లాగ్ అంటారు. ఒక చెట్టు మహా వృక్షంగా మారటానికి కొన్ని వత్సరాలు తీసుకుంటుంది. అలానే మన జీవితంలో కూడా రోజూ అద్భుతాలు జరగవు. కొన్నేళ్ళకి అద్భుతాలు జరుగుతాయి. అప్పటివరకు మనం వేచి ఉండాలి. వేచి ఉండాలి అంటే ముందు మనం బతికి ఉండాలి. బతికి ఉండాలంటే సమాజం గురించి పెద్దగా ఆలోచించ కూడదు. మారుతున్న సమాజాన్ని గమనించాలి. కానీ మనం, మన విలువలు మారకూడదు, మార్పుకోకూడదు. అందరూ మారుతున్నారు, మనమూ మారాలి అనే భావనలో మనస్సులను పడదోసుకుంటూ వెళ్ళకూడదు.

నలుగురితో నారాయణ అనొద్దు.... కొందరి అభిప్రాయాలు తరచుగా మారి పోతుంటాయి. మరికొందరి అభిప్రాయాలు బలంగా, ధృఢంగా ఉంటాయి. అభిప్రాయాలు మార్పుకొనేవారు అందరినీ ఎక్కినా ధృఢంగా ఉన్నవారి భావాల వల్లనే అనేది మరువరాదు. నేను డిగ్రీ సెమిస్టర్ పరీక్షల జవాబులను మూల్యాంకనం చేస్తుంటాను. నా వద్దకు వచ్చేవి ఒక నలభై ఆస్పర్ సీట్లు అనుకుంటే, వానిలో

దాదాపుగా 38మంది ఒక ఆస్పర్ మక్కికి మక్కి దించేస్తుంటారు. అందరూ ఒకే గ్రేడ్ టెస్ట్ పేపర్ చదవటమో, మరేదేనో నాకు తెలియదు కానీ ఓ ఇద్దరు జవాబులు వెర్రేటిగా, కాన్సెప్టులు గా సబ్జెక్టివ్ గా రాస్తారు. మరి నేను ఎవరికి ఎక్కువ మార్కులిస్తానో మీరు గెస్ చేయగలరు. జీవితంలో నలుగురితో నారాయణ అనొద్దు. రాజీవ్ ది రాకృగా మారొద్దు. రత్నాల్లా మెరవాలి. పదిమంది మీ గురించి గొప్పగా చెప్పుకోవాలి. ఆ గొప్పలో మీరు సమాజానికి ఉపయోగపడాలి. జీవించడం ఎందుకో తెలిసిన ప్రతీ జీవనం ఎలా ఉన్నా భరించగలరు. ప్రతిదానికి ఒక సమయాం ఉంటుంది.

మీ జీవితంలో యువనం కేవలం 15 సంవత్సరాలే. వన్ పెట్టి అయిందా?! ఇకపై మీరు చేసే ప్రతి పనికీ మరొకరికి జవాబుదారీ అవ్వాలి. ఎట్టిపరిస్థితుల్లోనూ మీ జీవితం మీ చేతిలో ఉండదు. మీ రిమోట్ ఎవరపడితే వారు కంట్రోల్ చేస్తారు. స్ట్రీమ్ పై మీ బొమ్మను చూసి ఆనందపడతారు. అంటే పెట్టి చేసుకోవద్దని కాదు, కానీ ప్రతిదానికి ఒక



సమయం ఉంటుందనేది చెప్పదలచాను. ఒక దురదృష్టం మరో గొప్ప అదృష్టానికి దారి తీస్తుంది. నారా చంద్రబాబునాయుడు గారు ఉమ్మడి ఆంధ్రప్రదేశ్ కి సి.ఎం.గా ఉన్నప్పుడు వచ్చిన అనేక డి.ఎస్సీ ప్రకటనల్లోని ఒక డి.ఎస్సీ ప్రకటనకు స్పందించి అప్లై చేసి భీకరంగా చదివాడు ఒక బాబు. కానీ పాపం తోటివారు ఎంపికయ్యారు. కానీ తాను టీచర్ గా ఎంపిక కాలేదు. ఆ బాబు భలే బాధపడ్డాడు. ఎంతగా అంటే హృదయం కందిపోయే లాగ. కానీ అదే సమయంలో డి.వై. ఇ.ఓ.కు అనగా డిప్యూటీ ఎడ్యుకేషన్ ఆఫీసర్ గాకి నోటిఫికేషన్ వది ఉన్నది. కనీసం తాను మళ్ళీ చదివాడు. ఈసారి ఏకంగా డిప్యూటీ ఎడ్యుకేషన్ ఆఫీసర్ అయ్యాడు. తాను డి.ఎస్సీకి సెలెక్ట్ అయి ఉంటే ఒక టీచర్ గా మిగిలిపోయేవాడు. కానీ దానిని సాధించలేక పోయినందున డిప్యూటీ ఎడ్యుకేషన్ ఆఫీసర్ అయి ఆనక కొన్నాళ్ళకి డి.ఇ.ఓ. అయి జిల్లా టీచర్లందరి మీద అధిపతి అయ్యాడు. జిల్లా విద్యాశాఖకు తాను కార్యనిర్వాహకుడు అయ్యాడు. ఇన్ స్పెక్టర్ పై సూళ్ళకు

వెలితే తనతో డి.ఎస్సీకి ప్రిపేరయి సెలెక్ట్ అయిన టీచర్లు గౌరవ సూచకంగా లేచి నిలబడ్డారు. చూడండి! అందుకే నేనంటున్నా 'ఒక దురదృష్టం మరో గొప్ప అదృష్టానికి దారి తీస్తుంది. కావలసినదల్లా ఒకే ఒక్క ఆశావాదం. మనసు పెట్టి పని చేయండి... మీరు ఒక పనిని మొదటిసారి చేస్తున్నప్పుడు తప్పనిసరిగా మీ మెదడు అందులో పెట్టి తీరాలి. అప్పుడు ఆ పని ఎలా చేయాలో తెలుస్తుంది. అనంతరం ఆ పని రెండోసారి చేయవలసినప్పుడు అది సులువు అవుతుంది. ఎంతటి సులువు అంటే మీరు వేరొకరికి చెప్పేటంతగా. మైండ్ సెట్ మార్చుకోవాలి... మన ఉద్యోగార్థుల్లో చాలామంది గ్రూప్ పరీక్షలకి ఎంపిక కాలేకపోయాము అని బాధ పడుతుంటారు. కానీ భవిష్యత్తుని ఎవరు చూచారు అంచనాలు వేయడం తప్ప, ఏమో? రేపు మీకోసం ఇంతకన్నా పెద్దది దేవుడు రాసిపెట్టే ఉంటాడు. కొన్ని ఉదాహరణలున్నాయి కదా! మీ కష్టం మీరు చేయండి. మీరు చేసే ఈ కష్టం ఏ రంగంలోనూనూ మిమ్మలను ఉన్నత శిఖరాలకి చేరుస్తుంది. ఆందోళన వల్ల ఒత్తిడి, ఈ రెండూ కలిసి మంచి జీవనానికి శత్రువులు అని గ్రహించండి. ఎంతసేపటికీ నాకేంటి లాభం? అనుకోకుండా నేను కూడా అంటూ మైండ్ సెట్ తో ఉండండి. ప్రకృతి కరుణించక మానదు. వర్షం కురవక ఆగదన్నట్లుగా మీ జీవితంలోనూ ఆనంద వుష్టాలు వూస్తాయి. పచ్చటి తివాచీ పరచుకుంటుంది. ఒక్కసారి మనం మన గత జీవితానికి తిరిగి చూస్తే అన్ని దుఖాలే ఉండవు. అందులో సంతోషాలు ఉంటాయి. అనే సంతోషాలు మళ్ళీ మన జీవితంలో రిపీట్ కాకుండా ఉంటాయా? చెప్పండి?



హిస్టరీ రఫీ సార్, అసిస్టెంట్ ప్రొఫెసర్ సిల్: 9848827238

## గ్రూప్-2 ఎ.పి. ప్రి హిస్టరీ

1. నవీన రాతియుగపు కుండలకు సంబంధించిన వ్యాఖ్యానాలలో ఈ క్రిందిది నిజమైనది?
  - ఎ. చేతులతో తయారుచేసిన కుండలు
  - బి. కుమ్మరి చక్రంతో చేసిన కుండలు
  - సి. నగిషిలతో చేసిన మృణ్మయ కుండలు
  - డి. అసలు కుండలనే ఉపయోగించలేదు.
2. చరిత్రపూర్వ యుగం నుండి చరిత్ర యుగం వరకు కొనసాగింపుగా ఆదిమానవుడు వాడిన చేతి పని ముట్లు, ఆనవాళ్ళు లభించిన ఏకైక ప్రదేశం ఏది? (ఆంధ్రాలో)
  - ఎ. నాగార్జున కొండ
  - బి. ఉట్నూరు
  - సి. పెదబంకూరు
  - డి. పిక్లి హాల్
3. నవీన రాతియుగపు ఉన్నతమైన సాంఘిక, సాంస్కృతిక జీవనానికి దర్శణం పట్టేది?
  - ఎ. రాతి పెయింటింగ్ లు
  - బి. అందంగా అలంకరించబడిన కుండలు
  - సి. టెర్రకోట్ మట్టితో చేసిన అలంకరణ వస్తువులు
  - డి. పైవన్నీ
4. మెగా లిత్ అనే పదానికి అర్థం?
  - ఎ. సమాధులు
  - బి. నిర్మాణాలు
  - సి. చనిపోయిన వారిని తగులబెట్టడం
  - డి. మరణించిన వారి వస్తువులపై కట్టిన కట్టడం
5. 8 కాళ్ళతో చేసిన ఒక మట్టి జంతువు పొట్టలో చనిపోయిన వ్యక్తిని ఉంచి సమాధి చేయటాన్ని ఏమంటారు?

- ఎ. మెన్ హిర్
- బి. డౌలమెన్
- సి. సిన్
- డి. సోర్ట్రోగెన్
6. ఆరుకాళ్ళతో మట్టితో చేయబడిన గొర్రె ఆకారం కలిగిన పొట్టలో చనిపోయిన మనిషిని పెట్టి సమాధి చేయబడిన ప్రదేశం ఏది?
  - ఎ. నాగార్జున కొండ
  - బి. జగ్గయ్యపేట
  - సి. శంఖవరం
  - డి. ఉట్నూరు.
7. మెగా లిథిక్ పీరియడ్ కి చెందిన రాతి సమాధుల్లో బయల్పడిన కుండలకు సంబంధించి ఈ క్రింది వానిలో ఏది నిజం?
  - ఎ. నల్లటి కుండలు మరియు గోధుమరంగు మట్టి పాత్రలు
  - బి. టెర్రకోట్ మట్టిపూసలు మరియు గవ్వలు చంద్రకాంతి శిలలు
  - సి. ఇనుముతో చేసిన వస్తువులు
  - డి. పైవన్నీ
8. మెగా లిథిక్ కల్చర్ కి సంబంధించిన వ్యాఖ్యానాలలో ఈ క్రింది వానిలో ఒకటి నిజం కాదు?
  - ఎ. రకరకాల ఆకృతులలో కుండలు ఉన్నాయి
  - బి. గోడలు బంకమన్నుతో చేయబడి ఉన్నాయి.
  - సి. ఇనుముతో కూడిన పరిజ్ఞానం ఉంది.
  - డి. చనిపోయిన వారి సమాధులలో పెంపుడు జంతువుల అస్తిపంజరాలు ఉన్నాయి.
9. మెగా లిథిక్ కాలంనాటి లేదా బ్రహ్మత్ శిలా యుగం కాలంనాటి వ్యవసాయ పద్ధతులలో సూచన చేసే అంశం ఈ క్రింది వానిలో ఏది?

- ఎ. ఇనుప నాగళ్ళు , ఇనుప కొడవళ్ళను వాడడం
- బి. పెంపుడు జంతువులను మచ్చిక చేసుకోవటం
- సి. నదీ తీరాల వద్ద తమ నివాసాలను ఏర్పాటు చేసుకోవడం
- డి. పైవన్నీ
10. మెగా లిథిక్ కల్చర్ లేదా బ్రహ్మత్ శిలాయుగం కాలంనాటి నివాసాల నిర్మాణాలలో సరి కానిది గుర్తించండి?
  - ఎ. ఒకే ప్రణాళికతో కూడిన అండాకారపు, వృత్తాకారపు, దీర్ఘవృత్తాకారంలో నిర్మించిన ఇండ్లు.
  - బి. బంకమట్టితో నిర్మాణం చేసిన గోడలు కలిగిన ఇండ్లు
  - సి. బంకమన్నుతో అతికన అంతస్తుల ఇండ్లు
  - డి. కలప స్తంభాల మద్దతుతో గడ్డితో నేసిన పూరి కప్పులు తో కూడిన ఇండ్లు.
11. ఆంధ్రాలో నివసించిన పాత రాతియుగపు మానవుడు ఏ జాతికి చెందిన వాడు?
  - ఎ. హోమోసెపియన్
  - బి. హోమో ఎర్క్టస్
  - సి. హోమోసెపియన్ సెపియన్
  - డి. నియోలాండ్ ల్
12. కృష్ణాజిల్లా ఉన్నపల్లి ఏ పాత రాతియుగపు పనిముట్లకు కేంద్రం?
  - ఎ. రాతి ఈటెలు
  - బి. చేతి గొడ్డళ్ళు
  - సి. రాతి పెచ్చులు
  - డి. చెకుముకి రాళ్ళు
13. యాగంటి సమీపాన జ్వాలాపురం ఏ పనిముట్లకి ఆయుధాలకి ప్రసిద్ధి?
  - ఎ. ఎముకల పరిశ్రమ
  - బి. చేతి గొడ్డల్ల పరిశ్రమ
  - సి. గోకుడు రాళ్ళ పరిశ్రమ

- డి. రాతి పెచ్చుల పరిశ్రమ
14. ఈ క్రింది వానిలో ఆఫులియన్ పరిశ్రమకు చెందిన రాతి వస్తువులు ఏవి?
  - ఎ. చేతి గొడ్డళ్ళు
  - బి. విల్లు, బాణం
  - సి. రాతి మొసలు
  - డి. ఒడిసె రాళ్ళు
15. చరిత్రపూర్వయుగంలో ఆంధ్రాలో సంచరించిన మహా గొలి ఏ కాలానికి చెందినది?
  - ఎ. మెనోలిథిక్
  - బి. మినోజాయిక్
  - సి. కాలోలిథిక్
  - డి. అప్పర్ పాలియో లిథిక్
16. స్థాపాలకు ముందు ఆంధ్ర ఆదిమానవులు నిర్మించిన వాస్తు నిర్మాణాలు ?
  - ఎ. విహారాలు
  - బి. ఆరామాలు
  - సి. కైరన్ను
  - డి. రాతి గుహలు
17. నిప్పుని మండించిన బూడిద రాళ్ళు బయల్పడిన ఆంధ్ర ప్రాంతం ఏది?
  - ఎ. శంఖవరం
  - బి. పాలువాయి
  - సి. హాళికల్
  - డి. కొత్తకల్లు
18. ఈ క్రింది వానిలో పాత రాతియుగపు పనిముట్లు కానిది గుర్తించండి?
  - ఎ. రాతిపెచ్చు
  - బి. రాతి కొడవలి
  - సి. ఈటెమొస
  - డి. స్పటిక శిల
19. శ్రీ లంగుటూరి ప్రకాశం పంతులు ఆర్కియాలజీ మ్యూజియం నెలకొన్న ప్రదేశం ఏది?
  - ఎ. సింగరాయకొండ
  - బి. కనపర్తి
  - సి. హనుమంతుని పాడు
  - డి. త్రిపురాంతకం

జవాబులు : 1)ఎ, 2)ఎ, 3)డి, 4)ఎ, 5)డి, 6)సి, 7)ఎ, 8)డి, 9)డి, 10)సి, 11)ఎ, 12)బి, 13)ఎ, 14)ఎ, 15)బి, 16)సి, 17)డి, 18)బి, 19)బి

**పోటీ పరీక్షల ప్రత్యేకం**

**APPSC, TSPSC Group-1, 2 DSC Police Exams**

**జనరల్ సైన్స్**

- ఈ క్రింది వాటిలో సరికాని అంశాన్ని గుర్తించండి?
  - ప్రపంచ అటవీ విస్తీర్ణంలో మన దేశం యొక్క అటవీ విస్తీర్ణం 1.75%
  - తలసరి అటవీ విస్తీర్ణం 0.024 హెక్టార్లు మాత్రమే
  - ఇండియన్ స్టేట్ ఫారెస్ట్ రిపోర్ట్ 2021 ను 2022 జనవరి 12 న విడుదల చేయడం జరిగింది
- 1 మాత్రమే                      2. 2 మాత్రమే  
3. 3 మాత్రమే                      4. ఏదికాదు
- పరిపాలన సౌలభ్యం కోసం అడవులను మూడు రకాలుగా వర్గీకరించడం జరిగింది. ఇందులో కేటాయించిన ఫారెస్ట్ కు సంబంధించి సరైన అంశాలను గుర్తించండి?
  - ఈశాన్య రాష్ట్రాలు, గుజరాత్ లోని కొంత ప్రాంతం ఎక్కువ శాతం ఈ అడవులు కలవు.
  - చెట్లు నరకడానికి, పశువులు సంచరించడానికి ఏమాత్రం ఆటంకం ఉండదు.
  - ఈ అడవులు ప్రభుత్వ పరిరక్షణలో ఉంటాయి.
  - ఈ అడవులు 29 శాతం వరకు విస్తరించి ఉంటాయి.
- 1, 2 మాత్రమే                      2. 2, 3 మాత్రమే  
3. 1, 4 మాత్రమే                      4. పైవన్నీ సరికానివి
- సామాజిక అడవులను ఏ ప్రణాళిక కాలంలో ప్రారంభించడం జరిగింది?
  - నాలుగో పంచవర్ష ప్రణాళిక కాలం
  - ఐదవ పంచవర్ష ప్రణాళిక కాలం
  - ఆరవ పంచవర్ష ప్రణాళిక కాలం
  - ఏడవ పంచవర్ష ప్రణాళిక కాలం
- 1988 నూతన జాతీయ అటవీ విధానం ఆధారంగా పీఠభూమి ప్రాంతాలలో ఎంత శాతం అడవులు ఉండాలి?
  - 66%                                      2. 29%
  - 20%                                      4. 46%
- కునో నేషనల్ పార్క్ లో ప్రవేశపెట్టిన చిరుతలను పర్యవేక్షించడానికి జాతీయ అంతర్జాతీయ నిపుణుల స్టీరింగ్ కమిటీని ఏ తేదీ నియమించడం జరిగింది?
  - మే 11 2023
  - మార్చి 11 2023                      3. మే 25 2023
  - మార్చి 25 2023
- ఈ క్రింది వాటిలో సరికాని జతను గుర్తించండి?
  - ప్రాజెక్ట్ క్రోకోడైల్-1975
  - ప్రాజెక్టు డాల్ఫిన్ -1997
  - ప్రాజెక్టు గొడవాన్ -2018
  - ఏదికాదు
- ప్రాజెక్టు మంచు చిరుతను భారత ప్రభుత్వం ఎప్పుడు ప్రారంభించింది?
  - 2009 జనవరి 20
  - 2010 జూన్ 5
  - 2011 జూలై 12
  - 2012 అక్టోబర్ 29
- ప్రాజెక్ట్ రైనో కు సంబంధించి సరైన అంశాలను గుర్తించండి?
  - 1987 లో అస్సాంలో ప్రాజెక్ట్ రైనో పరిరక్షణ పథకాన్ని ప్రారంభించారు
  - ప్రపంచవ్యాప్తంగా ఒంటి కొమ్ము ఖర్చు మృగలు 3,300 వరకు కలవు
  - ప్రపంచ ఖర్చుమృగాల దినోత్సవం ప్రతి సంవత్సరం సెప్టెంబర్ 22న నిర్వహిస్తారు
1. 1 మాత్రమే                      2. 2 మాత్రమే  
3. 3 మాత్రమే                      4. పైవన్నీ సరైనవి
- రాబండు యొక్క శాస్త్రీయ నామం?
  - హిమాలయన్ గ్రెట్రీన్
  - జిప్సీ బెంగాలీస్పీస్                      3. రెడ్ హెడెడ్
  - ఈజిప్షియన్ రాబండు
- 1987 లో అస్సాంలో ప్రాజెక్ట్ రైనో పరిరక్షణ పథకాన్ని ప్రారంభించారు
- ప్రపంచవ్యాప్తంగా ఒంటి కొమ్ము ఖర్చు మృగలు 3,300 వరకు కలవు
- ప్రపంచ ఖర్చుమృగాల దినోత్సవం ప్రతి సంవత్సరం సెప్టెంబర్ 22న నిర్వహిస్తారు

- 1987 లో అస్సాంలో ప్రాజెక్ట్ రైనో పరిరక్షణ పథకాన్ని ప్రారంభించారు
- ప్రపంచవ్యాప్తంగా ఒంటి కొమ్ము ఖర్చు మృగలు 3,300 వరకు కలవు
- ప్రపంచ ఖర్చుమృగాల దినోత్సవం ప్రతి సంవత్సరం సెప్టెంబర్ 22న నిర్వహిస్తారు

- క్రింది వాటిలో సరికాని జతను గుర్తించండి?
  - అటవీ ప్రాంత పరిరక్షణ చట్టం -1980
  - వాయు కాలుష్య నియంత్రణ, నివారణ చట్టం-1981
  - పర్యావరణ పరిరక్షణ చట్టం -1986
  - వన్యప్రాణి పరిరక్షణ సవరణ చట్టం -1990
- 1985 సంవత్సరం నాటికి ప్రపంచ వ్యాప్తంగా ఎన్ని జన్యు బ్యాంకులను ఏర్పాటు చేయడం జరిగింది?
  - 43                                      2. 45
  - 30                                      4. 39
- IUCN అంచనా ప్రకారం ప్రపంచంలోని నాళిక కణజాలయంత జాతులలో ఎంత శాతం జాతులు

- ప్రాజెక్ట్ ఎలిఫెంట్ అనే కార్యక్రమాన్ని ఈ పంచవర్ష ప్రణాళిక కాలంలో ప్రారంభించడం జరిగింది?
  - 7 వ పంచవర్ష ప్రణాళిక కాలం
  - 8 వ పంచవర్ష ప్రణాళిక కాలం
  - 9 వ పంచవర్ష ప్రణాళిక కాలం
  - 10 వ పంచవర్ష ప్రణాళిక కాలం
- అల్బ్ రిడ్డి తాబేలు ను రక్షించడానికి చేపట్టిన ఆపరేషన్ ఓలివియా అని కార్యక్రమాన్ని ఏ సంవత్సరంలో నిర్వహించారు?
  - 1987                                      2. 1980
  - 1990                                      4. 1984
- ప్రపంచ ఖర్చుమృగాల దినోత్సవం ఏ తేదీన నిర్వహిస్తారు?
  - సెప్టెంబర్ 22                                      2. అక్టోబర్ 22
  - జూన్ 22                                      4. మే 22
- ప్రపంచ అటవీ దినోత్సవం ఏ తేదీన నిర్వహిస్తారు?
  - మార్చి 21                                      2. సెప్టెంబర్ 16
  - జూన్ 5                                      4. జూలై 14
- రిజర్వ్ ఫారెస్ట్ కి సంబంధించి క్రింది వాటిలో సరైన అంశాలను గుర్తించండి?
  - ప్రజలు ప్రవేశించడం నిషేధం
  - పశువులు సంచరించడం నిషేధం
  - కలవ కోసం చెట్లను నరకడం నిషేధం
  - ప్రభుత్వ పరిరక్షణలో ఉంటుంది
- 1, 2 మాత్రమే                      2. 2, 3 మాత్రమే  
3. 3, 4 మాత్రమే                      4. పైవన్నీ సరైనవి
- CPCB ప్రకారం అత్యధికంగా ఘన వ్యర్థ పదార్థాలను ఉత్పత్తి చేసే సగరాలు?
  - ఢిల్లీ, ముంబై                                      2. చెన్నై, హైదరాబాద్
  - బెంగళూరు, చెన్నై                                      4. ఢిల్లీ, ఇండోర్
- 1, 2 మాత్రమే                      2. 2, 3 మాత్రమే  
3. 3, 4 మాత్రమే                      4. 1, 4 మాత్రమే
- 2021 ఇండియన్ స్టేట్ ఫారెస్ట్ సర్వే రిపోర్ట్ ప్రకారం అత్యల్ప అటవీవిస్తీర్ణం కలిగిన రాష్ట్రాలు?
  - హర్యానా, పంజాబ్, గోవా, సిక్కిం
  - హర్యానా, గోవా, ఒడిశా, మధ్య ప్రదేశ్
  - గోవా, పంజాబ్, ఒడిశా, కేరళ
  - పంజాబ్, రాజస్థాన్, అరుణాచల్ ప్రదేశ్, గోవాజి
- సామాజిక అడవులు అనేటటువంటి కార్యక్రమాన్ని 1980-82 లో ఎన్ని జిల్లాల్లో అమలు చేయడం జరిగింది?
  - 101                                      2. 108
  - 157                                      4. 95
- బ్రిటిష్ వారు తొలిసారిగా అటవీ విధానాన్ని ఎప్పుడు ప్రకటించారు?
  - 1890                                      2. 1894
  - 1897                                      4. 1879
- భారతదేశంలో మొదటి క్రోకోడైల్ బ్యాంకు ను ఎక్కడ ఏర్పాటు చేయడం జరిగింది?
  - బెంగళూరు                                      2. ఒడిశా
  - చెన్నై                                      4. ఉత్తర్ ప్రదేశ్



**ప్రపంచ ఖర్చుమృగాల దినోత్సవం ఏ తేదీన నిర్వహిస్తారు?**

- భారతదేశపు టైగర్ క్యాపిటల్ అని ఏ ప్రాంతాన్ని పేర్కొంటారు?
  - నాగపూర్                                      2. మధ్య ప్రదేశ్
  - మహారాష్ట్ర                                      4. మణిపూర్
- ప్రాజెక్టు టైగర్ స్వర్ణోత్సవాలను 2023 ఏప్రిల్ 9 న భారత ప్రధానమంత్రి సరేంద్ర మోడీ ఏ రాష్ట్రంలో ప్రారంభించడం జరిగింది?
  - కేరళ                                      2. తమిళనాడు
  - కర్ణాటక                                      4. ఆంధ్రప్రదేశ్
- వన్యప్రాణులు రక్షణ చట్టం 1972 లోని - ఏ సెక్షన్ ప్రకారం రాష్ట్రప్రభుత్వాలు పులులు సంరక్షణ ప్రణాళికను సిద్ధం చేయడం జరుగుతుంది?
  - సెక్షన్ -22                                      2. సెక్షన్ 38
  - సెక్షన్ 66                                      4. సెక్షన్ 12

- ప్రమాద స్థితిలో ఉన్నాయని పేర్కొంది?
  - 10%                                      2. 15%
  - 20%                                      4. 25%
- పర్యావరణ హక్కుల పరిరక్షణ కోసం మొదటిసారిగా స్టాక్ హోమ్ లో ఐక్యరాజ్యసమితి సదస్సును నిర్వహించిన సంవత్సరం?
  - 1972                                      2. 1992
  - 1997                                      4. 1999
- అంతర్జాతీయ పరి పరిశోధన సంస్థ ఎక్కడ కలదు?
  - మెక్సికో                                      2. ఫిలిపైన్స్
  - హైదరాబాద్                                      4. జెనివా
- క్రింది వాటిలో సరైన అంశాలను గుర్తించండి?
  - ప్రాజెక్ట్ టైగర్ కార్యక్రమాన్ని మొదటిసారిగా ఉత్తరాఖండ్ రాష్ట్రంలో ప్రారంభించడం జరిగింది
  - తొమ్మిది రక్షిత ప్రాంతాలలో 18,000 చ. కి.మీ. విస్తీర్ణంలో ప్రాజెక్ట్ టైగర్ కార్యక్రమం ప్రారంభించారు
  - దేశ భౌగోళిక విస్తీర్ణంలో 2.4% టైగర్ రిజర్వ్ ప్రాంతం కలదు
  - పైవన్నీ సరైనవి

- 2021 ఇండియన్ స్టేట్ ఫారెస్ట్ సర్వే రిపోర్ట్ ప్రకారం అత్యల్ప అటవీవిస్తీర్ణం కలిగిన రాష్ట్రాలు?
  - హర్యానా, పంజాబ్, గోవా, సిక్కిం
  - హర్యానా, గోవా, ఒడిశా, మధ్య ప్రదేశ్
  - గోవా, పంజాబ్, ఒడిశా, కేరళ
  - పంజాబ్, రాజస్థాన్, అరుణాచల్ ప్రదేశ్, గోవాజి
- సామాజిక అడవులు అనేటటువంటి కార్యక్రమాన్ని 1980-82 లో ఎన్ని జిల్లాల్లో అమలు చేయడం జరిగింది?
  - 101                                      2. 108
  - 157                                      4. 95
- బ్రిటిష్ వారు తొలిసారిగా అటవీ విధానాన్ని ఎప్పుడు ప్రకటించారు?
  - 1890                                      2. 1894
  - 1897                                      4. 1879
- భారతదేశంలో మొదటి క్రోకోడైల్ బ్యాంకు ను ఎక్కడ ఏర్పాటు చేయడం జరిగింది?
  - బెంగళూరు                                      2. ఒడిశా
  - చెన్నై                                      4. ఉత్తర్ ప్రదేశ్

జవాబులు :

1)1	2)1	3)3	4)1	5)3	6)4
7)1	8)4	9)2	10)1	11)3	12)2
13)4	14)1	15)1	16)1	17)2	18)4
19)4	20)1	21)2	22)2	23)1	24)1
25)4	26)1	27)1	28)1		
29)2	30)3				



యన్.జగదీష్, ప్యాకజీ, S. V అకాడమీ, తిరుపతి.

**రచనలకు ఆహ్వానం**

పోటీ పరీక్షలకు అత్యుత్తమ మెటీరియల్, గైడెన్స్ అందిస్తూ 'ప్రజ్ఞ' విద్యార్థుల మన్ననలందుకుంది. తెలుగు పత్రికలలో విద్యకు సంబంధించిన అనుబంధాలలో ప్రత్యేక స్థానం పొందిన 'ప్రజ్ఞ'ను మరింత ఉపయోగకరంగా తీర్చి దిద్దేందుకు అధ్యాపకులు, ఔత్సాహికుల నుంచి రచనలను (మెటీరియల్) ఆహ్వానిస్తున్నాం. ఏపీఎస్సీ, డీఎస్సీఎస్సీ, ఆర్ఆర్టీ, ఎస్ఎస్సి, బ్యాంక్, డీఎస్సీ తదితర పోటీ పరీక్షల మెటీరియల్ను సులభరీతిలో విద్యార్థులకు అర్థమయ్యే విధంగా రాయగల అధ్యాపకులు మెటీరియల్ను 'ప్రజ్ఞ' ఇమెయిల్ (suryaapragna71@gmail.com) కు లేదా 7288890072 వాట్సాప్ నెంబరుకు పంపవచ్చు. రచనతో పాటు ఫోటో, ఫోన్ నెంబర్, అడ్రస్ తదితర వివరాలను జత చేయాలి.

- ఈ క్రింది వాటిలో సరికాని జతను గుర్తించండి?
  - గ్లోబల్ టైగర్ ఫోరమ్ -1993
  - గ్లోబల్ టైగర్ ఇన్షియేటివ్ -2008
  - గ్లోబల్ టైగర్ రికవరీ ప్రోగ్రాం -2010
  - ఏదికాదు
- 2016లో భారతదేశ జీవవైవిధ్య పురస్కారం అందుకున్న పక్కే పులుల సంరక్షణ కేంద్రం ఏ రాష్ట్రంలో కలదు?
  - అరుణాచల్ ప్రదేశ్                      2. మధ్యప్రదేశ్
  - ఉత్తరప్రదేశ్                      4. గుజరాత్

# GENERAL ENGLISH for All Competitive Exams

(Continued from last week...)

14. ——— Punjab is ——— fertile state

- a) a                      b) an                      c) the  
d) No article is needed

15. We will go on holiday in ——— summer

- a) a                      b) an                      c) the  
d) No article is needed

16. I can play ——— Chess.

- a) a                      b) an                      c) the  
d) No article is needed

17. Each boy should participate in ——— games

- a) a                      b) an                      c) the  
d) No article is needed

18. Raja Raj Chola is one of ——— greatest Chola Kings.

- a) a                      b) an                      c) the  
d) No article is needed

19. They all are going to ——— hospital to meet their mother.

- a) a                      b) an                      c) the  
d) No article is needed

20. I was born on ——— Wednesday

- a) a                      b) an                      c) the  
d) No article is needed

21. My father came to ——— college to enquire about my performance

- a) a                      b) an                      c) the  
d) No article is needed

22. Telugu is called ——— Italian of ——— East

- a) a                      b) an                      c) the  
d) No article is needed

23. ——— man who is in blue pyjamas is my uncle

- a) a                      b) an                      c) the  
d) No article is needed

24. I told him ——— thousand times not to repeat ——— mistake

- a) a, the                      b) a, an  
c) the, a  
d) No article is needed

25. ——— apples are good for health

- a) a                      b) an                      c) the  
d) No article is needed

Key

14. a    15. a    16. d    17. c    18. c  
19. c    20. a    21. c    22. c    23. c  
24. a    25. d

## EXERCISE-4

01. Many freedom fighters used English to fight ——— English

- a) a                      b) an                      c) the  
d) No article is needed

02. They knocked from ——— door to door

- a) a                      b) an                      c) the  
d) No article is needed

03. He feels as if he were ——— Kalidasa

- a) a                      b) an                      c) the  
d) No article is needed

04. Did you read ——— book ?

- a) a                      b) an                      c) the

a) a                      b) an

c) the                      d) No article is needed

09. They sell oil at rupees 60 ——— litre

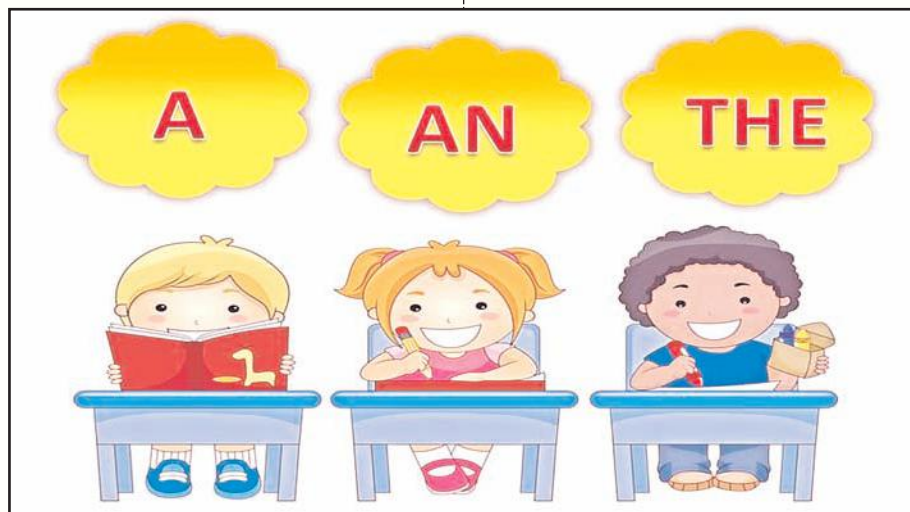
- a) a                      b) an  
c) the  
d) No article is needed

10. ——— Japanese are very intelligent.

- They speak Japanese  
a) a                      b) an  
c) the  
d) No article is needed

11. I met ——— one-eyed man on the road

- a) a                      b) an



## Articles

d) No article is needed

05. Rohit is ——— IAS officer

- a) a                      b) an                      c) the  
d) No article is needed

06. Shakespeare is ——— greatest dramatic in English

- a) a                      b) an                      c) the  
d) No article is needed

07. ——— more you talk ——— less I understand

- a) a                      b) an  
c) the  
d) No article is needed, No article is needed

08. ——— French are fashionable

c) the

d) No article is needed

12. Mukhul was in ——— hurry

- a) a                      b) an  
c) the  
d) No article is needed

13. Please bring me ——— sugar

- a) a                      b) an  
c) the  
d) No article is needed

14. ——— breakfast is my first meal of the day.

- a) a                      b) an  
c) the  
d) No article is needed

15. He plays ——— guitar

- a) the                      b) an                      c) a  
d) No article is needed

16. The Poet and ——— novelist were dead

- a) a                      b) an  
c) the                      d) no article

17. This is ——— only medicine for that

- a) a                      b) an  
c) the                      d) no article

18. ——— 'Tribune' is a popular daily in Punjab

- a) a                      b) an  
c) the                      d) no article

19. Kalidas is ——— Shakespeare of India

- a) a                      b) an  
c) the                      d) no article

20. He feels like ——— Sachin !

- a) a                      b) an  
c) the                      d) no article

21. ——— Rich should help ——— poor

- a) a, the                      b) an, a  
c) the, the                      d) no article

22. He reads ——— Bible

- a) a                      b) an  
c) the                      d) no article

23. Do you read Vyasa's ——— Mahabharata

- a) a                      b) an  
c) the                      d) no article

24. ——— Nile is the longest river in Egypt

- a) a                      b) an  
c) the                      d) no article

25. Twelve inches make ——— foot

- a) a                      b) an  
c) the                      d) no article

## KEY

- |       |       |       |       |       |
|-------|-------|-------|-------|-------|
| 01. c | 02. d | 03. a | 04. c | 05. b |
| 06. c | 07. b | 08. c | 09. a | 10. c |
| 11. a | 12. a | 13. d | 14. d | 15. a |
| 16. c | 17. c | 18. c | 19. c | 20. a |
| 21. c | 22. c | 23. a | 24. c | 25. a |

**KVR Sir, Director,**  
**KVR English Academy**  
**Dilsukh Nagar, Hyderabad**  
**Cell 9391057113**



## యూజీసీ నెట్ - 2024 (జూన్ సెషన్) నోటిఫికేషన్

యూనివర్సిటీ గ్రాంట్స్ కమిషన్ (యూజీసీ) నేషనల్ ఎలిజిబిలిటీ టెస్ట్ జూన్ 2024 పరీక్షకు నోటిఫికేషన్ విడుదలైంది. జూనియర్ రెసిర్వి ఫెలోషిప్, యూనివర్సిటీలో అసిస్టెంట్ ప్రొఫెసర్ పోస్టులకు పోటీపడేందుకు, పీహెచ్డీ ప్రవేశాలకు గాను ఈ పరీక్షను జూన్ 18న నిర్వహిస్తారు. ఈసారి మొత్తం 83 సబ్జెక్టులకు ఓఎమ్మార్ ఆధారిత పరీక్ష నిర్వహిస్తారు. గతంలో కంప్యూటర్ ఆధారిత పరీక్ష (సిబిటి) ఉండేది.

### దరఖాస్తు తేదీలు

దరఖాస్తులు ఆన్లైన్ విధానంలో ఏప్రిల్ 20వ తేదీ నుంచి మే 10వ తేదీ వరకు స్వీకరిస్తారు. అభ్యర్థులు పూర్తి వివరాలకు <https://ugcnet.nta.nic.in> వెబ్సైట్ చూడొచ్చు.

అర్హత: 55% మార్కులతో మాస్టర్స్ డిగ్రీ లేదా తత్సమాన

పరీక్షలో ఉత్తీర్ణులై ఉండాలి. ఓబీసీ- ఎన్సీఎల్/ ఎస్సీ/ ఎస్టీ/ దివ్యాంగులు/ ధర్మ జెండర్ కేటగిరి అభ్యర్థులకు 50% మార్కులు ఉండాలి.

### యూజీసీ నెట్ 2024 సబ్జెక్టులు:

అడల్ట్ ఎడ్యుకేషన్, ఆంధ్రోపాలజీ, అరబ్ కల్చర్ అండ్ ఇస్లామిక్ స్టడీస్, అరబిక్, ఆర్కియాలజీ, అస్సామీ, బెంగాలీ, బోడో, బొర్డో, జైన, చైనీస్, కామర్స్, కంప్యూటర్ సైన్స్ అండ్, క్రిమినాలజీ, జాగ్రఫీ, ఎకనామిక్స్, ఇంగ్లీష్, హెంసా సైన్స్, హిస్టరీ, ఫోరెన్సిక్ సైన్స్, ఇండియన్ కల్చర్, లైబ్రరీ అండ్ ఇన్ఫర్మేషన్ సైన్స్, లింగ్వెస్టిక్స్, మ్యూజిక్, సైకాలజీ, లా, తదితర సబ్జెక్టుల్లో పరీక్ష నిర్వహిస్తారు. మొత్తం సబ్జెక్టుల సంఖ్య: 83

### వయోపరిమితి:

జేఆర్ఎఫ్కు 01.06.2024 నాటికి 30 ఏళ్లు మించకూడదు. అసిస్టెంట్ ప్రొఫెసర్కు గరిష్ఠ

వయోపరిమితి లేదు.

**దరఖాస్తు ఫీజు:** జనరల్/ అన్రిజర్వ్డ్కు రూ.1150 జనరల్- ఈడబ్ల్యూఎన్/ ఓబీసీ- ఎన్సీఎల్ రూ.600, ఎస్సీ, ఎస్టీ, దివ్యాంగులు, ధర్మ జెండర్కు రూ.325.

### పరీక్ష విధానం:

ఓఎమ్మార్ ఆధారిత పరీక్ష విధానం ఉంటుంది. పరీక్షలో రెండు పేపర్లు ఉంటాయి. రెండు పేపర్లలో ఆబ్జెక్టివ్ టైప్, మల్టిపుల్ ఛాయిస్ ప్రశ్నలు ఉంటాయి. పేపర్-1లో 50 ప్రశ్నలు, 100 మార్కులు, పేపర్-2లో 100 ప్రశ్నలు.. 200 మార్కులు కేటాయించారు. పరీక్షకు 3 గంటల వ్యవధి ఉంటుంది.

### తెలుగు రాష్ట్రాల్లో పరీక్ష కేంద్రాలు:

హైదరాబాద్, సికింద్రాబాద్, జనగామ, కరీంనగర్, ఖమ్మం, కొత్తగూడెం, మహబూబాబాద్, మహబూబ్ నగర్, మేడ్చల్, నల్గొండ, నిజామాబాద్, సంగారెడ్డి,

సిద్దిపేట, సూర్యాపేట, వరంగల్, అమరావతి, అనంతపురం, చిత్తూరు, ఏలూరు, కాకినాడ, కర్నూలు, మచిలీపట్నం, మంగళగిరి, గుంటూరు, నంద్యాల, నరసరావుపేట, నెల్లూరు, రాజమహేంద్రవరం, శ్రీకాకుళం, సూరంపాలెం, తిరుపతి, విజయవాడ, విశాఖపట్నం, విజయనగరం.

### దరఖాస్తు విధానం :

ఆన్లైన్ విధానంలో అప్లయ్ చేసుకోవాల్సి ఉంటుంది.

### ముఖ్యమైన తేదీలు :

ఆన్లైన్ దరఖాస్తులు ప్రారంభతేదీ: ఏప్రిల్ 20, 2024  
ఆన్లైన్ దరఖాస్తులకు చివరి తేదీ: మే 10, 2024  
పరీక్ష ఫీజు చెల్లింపు చివరి తేదీ: మే 12, 2024  
దరఖాస్తులకు సవరణ తేదీలు: మే 13 నుంచి 15 వరకు పరీక్ష తేదీ: జూన్ 18, 2024

# DSC/TET ENGLISH PREPARATION PLAN

టెట్, డిఎస్సీ పరీక్షల ప్రిపరేషన్లో భాగంగా ఇంగ్లీష్లో వివిధ టాపిక్లు, వాటి వెయిట్జీలు వివరాలు, వివిధ విభాగాల నుంచి ఎలాంటి ప్రశ్నలు వస్తున్నాయో గత వారం తెలుసుకున్నాం. మెడదాలజీలో వివిధ అంశాల వివరాలు ఈ వారం తెలుసుకుందాం..

**METHODOLOGY :**

**1. Aspects of English :**

ఈ unit లో history of english, family of languages, old, middle, modern English periodsలో జరిగిన మార్పులు, English stabilize కావడానికి దోహదపడిన మార్గాలు, nature of language, importance of english as a second language, principles of learning english i.e. behaviourists, cognitivists, psycholinguists, learning stages, important definitions, problems of learning english అంశాలను సన్నద్ధం కావాల్సి ఉంది.

**1. Macaulay wanted a class of people who should be :** (TS-TRT-2018)

1. British in blood and colour, but English in taste and in opinions.
2. British in taste and in opinions, but foreign in blood and colour.
3. Indian in blood and colour, but English in taste and in opinion.
4. Indian in blood and colour, taste and in opinion.

Answer : 3

**2. With the word 'the', 'earth', 'is' and 'round', we can make a statement - The earth is round and a question - "Is the earth round"?**

**The property of language mentioned here is :**

1. Culture and Transmission
2. Duality of structure
3. arbitrariness
4. Creativity.

Answer : 2

**2.Objectives of Teaching English :**

అభ్యర్థులు ఈ టాపిక్లో functions of English in Education, Government Polices on teaching English, NCF-2005, CFTE-2006, NCFTE-2009, Objectives of Teaching English etc., అంశాల గురించి వివరంగా సన్నద్ధం కావాలి.

**1. NCERT was established in :**

1. 1961
2. 1971
3. 1963
4. 1973.

Answer : 1

**3. Phonetics :**

ఎక్కువ మంది అభ్యర్థులు క్లిష్టంగా, చదివేట పుడు అసహనానికి గురయ్యే టాపిక్ ఇది. ఇందులో clarity, fluency basic elements, phonemes, symbols, speech organs, consonant sounds, voiced, unvoiced, vowel sounds, single vowels, diphthongs, short vowel sounds, long vowel sounds, articulation of consonants, syllables, syllabification, silent letters, stress, intonation, rhythm, phonetic script etc., అంశాల పైన దృష్టి సారించాలి.

**1. Identify the word that has cor-**


**rect stress :** (TS - TET -2022)

1. Pivotal
2. Volatile
3. diplomacy
4. Opportunity.

Answer : 1

**4. Language Skills :**

ఈ కాన్సెప్ట్లో LSRW Skills లోని ఏయే అంశాలపై ప్రత్యేక దృష్టి సారించాలో తెలుసుకుందాం. Types of listening, hearing, listening తేడా, listening activities, speaking, speaking - activities, reading, factors of hamper speed, factors which help to read faster, types of reading, technique of reading, synthetic method, analytic methods, graphic reading, mechanics of writing, techniques of developing correct spelling, organization of writing, qualities of good handwriting, refer-



ence skills, use of dictionary and the saurus తదితర అంశాలపై దృష్టి కేంద్రీకరించాలి. వీటితో పాటు graphic skills, psychomotor skills, receptive skills, productive skills ఏవో తెలుసుకోవాలి.

**1. When one is looking up for the departure of the train in the newspaper, one is :** (TS-TET-2016)

1. reading
2. looking for information
3. listening
4. skimming.

Answer : 3

**5.Approaches, Methods and techniques :**

ఈ యూనిట్లో approach, method, technique మధ్య తేడాలు, పోలికలు, నిర్వచనాలు, శాస్త్రవేత్తలు గురించి చదవాల్సి ఉంటుంది. S-O-S, Communicative approaches, Grammar Translation method, direct method, child-centered teaching, suggestopedia, total physical response, silent way, west's new method వీటియొక్క features, limitations, advantages మరియు techniques-their usages మీద పూర్తి అవగాహనతో పరిక్షకి సన్నద్ధం కావాలి.

**1. The General Service list of English words (GSL) is associated with :**

1. Bilingual method

2. Grammar Translation method
3. Dr. West's new method
4. Direct method.

Answer : 3

**6. Teaching of Structures and Vocabulary items :**

ఈ యూనిట్లో అభ్యర్థులు content words, structural words, homophones, homonyms, antonyms, synonyms, types of vocabulary i.e., active vocabulary, recognition vocabulary, adhoc vocabulary, techniques of teaching vocabulary, functional grammar and usage దృష్టి సారించాలి.

**1.Choose the content word among the following :**

1. An
2. Was
3. Listening
4. To

Answer : 2

**9. Curriculum and Textbook :**

ఈ Unit లో భాగంగా అభ్యర్థులు curriculum and Syllabus తేడా, content organization - principles, selection, gradation, need for curriculum, need of a textbook, qualities of a good text book, construction knowledge, implications for curriculum, designing learning experiences, second language acquisition, learning resources textbooks, discourses, writing various discourses i.e., descriptive genre, expository genre, persuasive genre, narrative genre, analysis of a text-book అంశాలపై దృష్టి సారించాలి.

**1. The expanded form of "CD-ROM" is :**

1. Compact disc - Read on Memory
2. Compact disc - Read other memory.
3. Compact disc - Read only memory.
4. Compact disc - Read of Memory.

Answer : 3

**10. Evaluation :**

ఈ యూనిట్లో test, measurement, assessment, evaluation కి తేడా గమనించాలి. CCE, Tools and techniques of evaluation, types of evaluation, formative evaluation, summative evaluation and their differences, testing tools for formative and summative evaluations, types of tests i.e., achievement test, proficiency test, diagnostic test, placement test, aptitude test, allotment of marks for formative and summative assessments, assessment of learning, assessment as learning, assessment for learning, scholastic achievement test, Bloom's taxonomy 6 levels, characteristic of good tests i.e., validity, reliability types, testing the language skills, diary entries, portfolio, dialouge journals, blue print అంశాల పట్ల సంపూర్ణ అవగాహన సంపాదించాలి.

**1. The process of determining the changes in behaviour through instruction is :**

1. Test
2. Evaluation
3. Measurement
4. Assessment.

Answer : 2

**2. One of the tools of Formative assessment is : TS-TET**

1. Conventions of writing.
2. Reading comprehension.

3. Project work
4. Grammar.

Answer : 3

Karthik Nitturu  
English Faculty  
Anantapur





**APPSC  
Group -1 Prelims  
General Studies**

# జనరల్ మెంటల్ ఎజిలిటీ


ఇటీవల కాలంలో APPSC, TSPSC ప్రశ్నాపత్రాలో కాన్సెప్టబేస్డ్ ప్రశ్నలు ఎక్కువగా వస్తున్నాయి. 17-3-2024న జరిగిన Group-I ప్రశ్నాపత్రంలోని జనరల్ మెంటల్ ఎజిలిటీ, అడ్మినిస్ట్రేటివ్ మరియు సైకలాజికల్ ఎజిలిటీ ప్రశ్నలను, జవాబులను ప్రజ్ఞ పాఠకుల అవగాహన కొరకు అందిస్తున్నాం.

**పార్ట్ - ఎ**

జనరల్ మెంటల్ ఎజిలిటీ, అడ్మినిస్ట్రేటివ్ మరియు సైకలాజికల్ ఎజిలిటీస్

- 800x8008x80008=A మరియు A లోని అన్ని అంకెల మొత్తం M అయితే  $\frac{P}{M}$  యొక్క విలువ ఎంత అవుతుంది?  
1. 8      2. 12      3. 3      4. 4  
(2-3 ప్రశ్నలకు సూచనలు)  
ఈ క్రిందన రెండు సంఖ్యా శ్రేణులు ఇవ్వబడ్డాయి. వాటిలో ఒకటి పూర్ణయింది మరియు నిర్దిష్ట సమానాను అనుసరించబడింది. పూర్తి సంఖ్యా శ్రేణి సిరీస్ యొక్క సమానా ఆధారంగా వర్ణమాలలతో గుర్తించబడిన తప్పిపోయిన పదాలతో ఇతర సంఖ్యా శ్రేణులలో సమాధాన పదాన్ని కనుగొనండి.  
2. క్రింది వాటిలో 'డి' స్థానంలో వచ్చు సంఖ్య ఏది?  
4 25 169 1009 5041 20161  
6 ఎ బి సి డి ఇ  
1. 7827                      2. 8394  
3. 8401                      4. 8514  
3. క్రింది వాటిలో 'ఇ' స్థానంలో వచ్చు సంఖ్య ఏది?  
4 7.5 21.25 77.875 354.9375 1957.65625  
5 ఎ బి సి డి ఇ  
1. 2184.2                      2. 2114.5  
3. 2282.5                      4. 2419.4  
4. అమిత్ వరుసగా మూడు రోజులు 66 కి.మీ. 88 కి.మీ. మరియు 110 కి.మీ. దూరం ప్రయాణించాల్సి వచ్చింది. అతను మూడు రోజులలో సాధ్యమైనంత ఎక్కువ స్థిరమైన వేగంతో (కి.మీ./గం.లో) ప్రయాణిస్తే, పూర్ణాంక సంఖ్య గంటలలో ప్రతిరోజూ సంబంధిత దూరాలను అతను చేరుకుంటాడు. ప్రయాణాన్ని పూర్తి చేయడానికి అతనికి ఎన్ని గంటల సమయం పడుతుంది?  
1. 8 గంటలు                      2. 12 గంటలు  
3. 22 గంటలు                      4. 24 గంటలు.  
5.  $pKq$  అంటే  $p+q$   
 $pLq$  అంటే  $p-q$   
 $pMq$  అంటే  $pxq$   
 $pNq$  అంటే  $p/q$  అయితే ఈ క్రింది సమీకరణాలలో ఏది తప్పు?  
1.  $5K3L4M6N2=4$   
2.  $(8M7)M(7K5)L(6N3)N(3L2)=670$   
3.  $5K6L3M4N8=9.5$   
4.  $30N10K4M2L2=15$   
6. 'ఎస్' అను పైపు ఒక ట్యాంకును  $\frac{1}{4}$  గంటలో నింపగలదు. మరియు మరొక పైపు 'ఎమ్'  $\frac{1}{6}$  గంటలో నింపగలదు. ఖాళీ ట్యాంక్‌ను నింపడానికి రెండు పైపులు తెరవబడ్డాయి. అయితే  $\frac{1}{15}$  గంటల తర్వాత ట్యాంక్‌లో ఒక రంధ్రము ఏర్పడింది. కేవలం ఆ రంధ్రం మాత్రమే  $\frac{1}{12}$  గంటలో పూర్తి ట్యాంక్‌ను ఖాళీ చేస్తుంది. రాత్రి 9 గంటలకు రెండు పైపులు తెరిస్తే, ఏ సమయంలో ఆ ట్యాంక్ ఖాళీ అవుతుంది?  
1. 9.20 PM                      2. 9.30 PM  
3. 9.25 PM                      4. 9.40 PM  
7. రజనీ దగ్గర ఒక డిజిటల్ వాచ్ ఉంది. అది 24 గంటల ఫార్మాట్‌లో సమయాన్ని చూపుతుంది. వాచ్‌లో ఇప్పుడు సమయం 23.45 కాగా 'ఎ' నిమిషాలను దాటిన తర్వాత మళ్ళీ నాలుగు పూర్ణ సంఖ్యలు ఎడమ నుండి కుడికి ఆరోహణలో అమర్చబడిన విధంగా వాచ్ సమయాన్ని చూపుతుంది. అయితే ఎ x ఎ విలువ ఎంత అవుతుంది?  
1. 7569                      2. 8464  
3. 6724                      4. 9604  
8. E\*F అనగా E అంటే F యొక్క కుమారుడు. E+F అనగా E అంటే F యొక్క తండ్రి

- E>F అనగా E అంటే F యొక్క కుమార్తె  
E<F అనగా E అంటే F యొక్క భార్య. అయితే H ని P యొక్క సోదరిగా పరిగణిస్తే, ఈ రెండు వ్యక్తికరణలలో ఇవ్వబడిన సంబంధానికి సంబంధించి క్రింది వ్యక్తులలో ఎవరు దాయాదులు (First cousins) అవుతారు?  
 $Q>R<P+S$  మరియు  $M*H<I+J<K+L$   
1. QH  
2. MS  
3. ML  
4. MK  
9. ఒక హోస్టల్ గదిలో, ఐదుగురు వ్యక్తులు P,Q,R,S మరియు T ఒక నవల చదువుతారు. నవల మొదట చదివిన వ్యక్తి దానిని తరువాత R కి ఇస్తాడు. నవలను చివరగా చదివిన వ్యక్తి దానిని P నుండి తీసుకుంటాడు. T నవల చదివిన మొదటి లేదా చివరి వ్యక్తి కాదు. Q మరియు P మధ్య ఇద్దరు పాఠకులు ఉన్నారు. Q మరియు P మధ్య ఉన్న ఇద్దరు పాఠకులను అదే వరుస క్రమంలో గుర్తించండి.  
1. R మరియు S  
2. R మరియు T



- T మరియు S
- S మరియు T
- ఈ క్రింది ప్రకటనలను పరిగణించండి  
1. ఒక వృత్తంలో సమబాహు త్రిభుజం అదే వృత్తంలోని ఇతర త్రిభుజాలతో పోలిస్తే గరిష్టవైశాల్యాన్ని కలిగి ఉంటుంది.  
2. సమబాహు త్రిభుజం యొక్క ఎత్తు 10 సెం.మీ. అయితే దాని వైశాల్యం  $100\sqrt{3}$  సెం.మీ.<sup>2</sup> ఉంటుంది.  
3. త్రిభుజం యొక్క మూడు భుజాలు 5, 12 మరియు 13 సెం.మీ. అయితే త్రిభుజం యొక్క చుట్టూరిత వ్యాసార్థం 2.5 సెం.మీ. ఉంటుంది.  
4. స్కేలేన్ త్రిభుజం లో భుజాలు ఏవీ ఇతర భుజాలకు సమానంగా ఉండవు.  
పైన ఇచ్చిన ప్రకటనలలో ఏవి/ఏవి సరైనవి?  
1. 1, 2 మరియు 3 మాత్రమే  
2. 1 2 మరియు 4 మాత్రమే  
3. 2, 3 మరియు 4 మాత్రమే  
4. పైనన్నీ  
11. 5తో భాగించబడినపుడు 4కి సమానమైన శేషం మిగిలిన అన్ని మూడు అంకెల సహజ సంఖ్యల మొత్తం  $XXYZA$  అయితే  $Y+Z$  విలువ ఎంత?  
1. 9                      2. 2  
3. 14                      4. 18  
(12-15 ప్రశ్నలకు సూచనలు)  
ఈ క్రింది సూచనలను జాగ్రత్తగా చదివి క్రింది ఇవ్వబడిన ప్రశ్నలకు సమాధానం ఇవ్వండి.

- నందు మరియు మోహన్ తమ ఆపిల్ 6 సిరీస్ వాచీలను ఒక్కొక్కటి రూ. 42,000 చొప్పున కార్టిక్ మరియు గణేష్‌లకు విక్రయించాలని నిర్ణయించుకున్నారు. సి.పి.ని 25% పెంచడం ద్వారా రూ.42,000 అమ్మకం ధర వచ్చింది. నందు మొదటి రూ. 12,000 పై 10%, తదుపరి రూ. 16,000పై 8% మరియు మిగిలిన దానిపై 5% తగ్గింపును కొనుగోలుదారు కార్టిక్‌కు ఇవ్వగా మోహన్ తన కొనుగోలుదారు గణేష్‌కి మొదటి రూ.16,000పై 8%, తదుపరి రూ. 8,000 పై 7% మరియు మిగిలిన దానిపై 5% తగ్గింపును ఇచ్చాడు. అయితే ఈ తగ్గింపులు షరతులకు లోబడి ఉంటాయి. కొనుగోలుదారులు సకాలంలో చెల్లింపు చేయడం విఫలమైతే ప్రతివారం ఆలస్యానికి తగ్గింపు 1% తగ్గుతుంది.  
12. నందు మరియు మోహన్ సమయానికి అన్ని చెల్లింపులు పొందినట్లయితే, ఇద్దరిలో ఎక్కువ లాభం పొందుతున్న వ్యక్తి యొక్క లాభశాతం సుమారుగా ఎంత?  
1. 14%                      2. 21%  
3. 17%                      4. 9%  
13. కార్టిక్ రెండవ మరియు మూడవ చెల్లింపులలో

- వరుసగా 1 మరియు 2 వారాల పాటు విఫలమైతే, వాచ్ అమ్మకంలో నందుకి వచ్చిన లాభం ఎంత?  
1. రూ. 5,480                      2. రూ. 5,545  
3. రూ. 5,660                      4. రూ. 5,740  
14. గణేష్ ప్రతి చెల్లింపు చేయడానికి 2 వారాల పాటు విఫలమైతే వాచ్ అమ్మకంలో మోహన్‌కి వచ్చిన లాభం ఎంత?  
1. రూ. 5,400                      2. రూ. 6,200  
3. రూ. 6,500                      4. రూ. 6,800  
15. ప్రతి చెల్లింపు చేయడానికి కొనుగోలుదారు ఇద్దరు ఒకవారం రోజుల పాటు విఫలమైతే నందు మరియు మోహన్‌ల లాభాలలో తేడా ఎంత?  
1. రూ. 440                      2. రూ. 464  
3. రూ. 488                      4. రూ. 520  
16. మధు 2024 సంవత్సరంలో రూ. 78,000 ధరతో ఒక బైక్‌ను కొనుగోలు చేశాడు. ప్రతి సంవత్సరం గడిచే కొద్దీ దాని విలువ తగ్గుతూపోతోంది. మొదటి సంవత్సరం 10%, మరుసటి సంవత్సరం 9.5%, మూడవ సంవత్సరం 9.0% బైక్ యొక్క అసలు ధర పై అన్ని శాతాలని వర్తింపజేసి, 2029వ సంవత్సరంలో దాని విలువ ఎంత అవుతుంది?  
1. రూ. 43,000                      2. రూ. 42,000  
3. రూ. 42,500                      4. రూ. 42,900  
17. నీలిమ ప్రతిరోజూ q సంఖ్యలో స్ట్రీట్‌లను ఉత్పత్తి చేసే అగర్బాల్ స్ట్రీట్ షాప్ నుండి p సంఖ్యలో స్ట్రీట్‌లను ఆర్డర్ చేస్తుంది. ప్రతిరోజూ ఉత్పత్తి చేయబడిన మొత్తం స్ట్రీట్‌లో r% నాణ్యత తనిఖీలో విఫలమై

- పారవేయబడుతాయి. అయితే నీలిమ యొక్క ఆర్డర్ ఎన్ని రోజుల్లో పూర్తి అవుతుంది?  
1.  $p/100q(1-r)$   
2.  $100qr/p$   
3.  $100p/(100-r)q$   
4.  $100r/q(100-p)$   
18. ఒక కుటుంబంలో రవి, మధు, మహేష్, రఘు, ప్రవీణ్ అనే 5 మంది సభ్యులు ఉన్నారు. ప్రవీణ్ రఘు కంటే పొడుగ్గా ఉన్నాడు కానీ రఘు కన్నా లావుగా లేడు. మహేష్ రవి కంటే పొడుగ్గా ఉన్నాడు కానీ మధు కంటే పొట్టిగా ఉన్నాడు. రవి రఘు కంటే లావుగా ఉన్నాడు కానీ మధు కన్నా లావుగా లేడు. ప్రవీణ్ మహేష్ కంటే సన్నగా ఉన్నాడు మరియు మహేష్ రఘు కంటే సన్నగా ఉన్నాడు. ఆ కుటుంబ సభ్యుల బరువులను ఆరోహణ క్రమంలో (లావుగా ఉన్నవాళ్ళు మొదట మరియు సన్నగా ఉన్నవాళ్ళు చివర) ఉంచితే మధ్యలో ఎవరు వస్తారు?  
1. ప్రవీణ్                      2. రఘు  
3. మహేష్                      4. మధు  
(19-21 ప్రశ్నల కోసం సూచనలు)  
బతుకమ్మ పండుగ సందర్భంగా గ్రీన్ ఫీల్డ్ అపార్ట్‌మెంట్స్ అసోసియేషన్ ఆధ్వర్యంలో చిన్నారులకు ఆటల పోటీలు నిర్వహించారు. ఇందులో భాగంగా రేస్‌లో కీర్తి, జోష్, పల్లవి, రమ, శ్వేత పాల్గొన్నారు. వారు రేసులో 1 నుండి 5 వరకు వేర్వేరు ర్యాంకులను పొందారు (1 రేసులో వేగవంతమైనది మరియు 5 నెమ్మదిగా ఉన్నది). ఈ క్రింది సమాచారం కూడా తెలిసింది -  
1. కీర్తి ముందుగా రేసును ముగించిన వ్యక్తి కాదు.  
2. పల్లవికి 5వ ర్యాంక్ రాలేదు, కానీ కీర్తి తర్వాత రేసును ముగించినది.  
3. జోష్ తర్వాత రమ రేసును ముగించినది.  
4. కీర్తి మరియు శ్వేత ర్యాంకుల మొత్తం పల్లవి మరియు రమ ర్యాంకుల మొత్తానికి సమానం.  
19. రేసులో పాల్గొన్న ఐదుగురు బాలికలలో, చివరికి రేసును ముగించిన వారు ఎవరు?  
1. శ్వేత                      2. పల్లవి  
3. కీర్తి                      4. రమ  
20. శ్వేత మరియు పల్లవి ర్యాంకుల మొత్తం 8 అయితే, 4వ ర్యాంక్ ఎవరు సాధించారు?  
1. కీర్తి                      2. రమ  
3. పల్లవి                      4. శ్వేత  
21. ఐదుగురు బాలికలలో పల్లవి తర్వాత రేసును ఎవరు పూర్తి చేసి ఉండరు?  
1. కీర్తి                      2. రమ  
3. శ్వేత  
4. నిర్ణయించడం సాధ్యం కాదు.  
22. పూజా మరియు అజయ్ వయస్సుల నిష్పత్తి 1:3. 8 సంవత్సరాల తర్వాత వారి వయస్సు నిష్పత్తి 1:2గా ఉంటుంది. ఎన్ని సంవత్సరాల క్రితం వారి వయస్సు నిష్పత్తి 1:5గా ఉండేది?  
1. 3 సం.                      2. 4 సం.  
3. 5 సం.                      4. 6 సం.  
23. భాస్కర్ తన కుమార్తె కవితకు ఒక పిగ్గి బ్యాంకు ను కొన్నాడు. కవిత తన డబ్బును పొదుపు చేయడం ప్రారంభించినది. 1 మార్చి, 2024 ఆమె రూ.1 ఆదా చేసింది మరియు మార్చి 2వ తేదీ నుండి ప్రతి రోజు ఆమె మునుపటి రోజు కంటే రూ. 1 ఎక్కువగా ఆదా చేసింది. 1 మార్చి, 2024 తర్వాత ఆమె చేసిన మొత్తం పొదుపు ఖచ్చితమైన స్వేచ్ఛగా ఉండే మొదటి తేదీని కనుగొనండి.  
1. 10 మార్చి 2024  
2. 26 మార్చి 2024  
3. 17 మార్చి, 2024  
4. 8 మార్చి 2024

**APPSC**  
Group -1 Prelims  
General Studies

# జనరల్ మెంటల్ ఎబిలిటీ

24. జయ, దుకాణదారురాలు, మొదట్లో 'ఎస్' పెన్సులు ఉండేవి. ఒక కష్టమర్ ఎస్ నుండి 10% పెన్సులను కొనుగోలు చేసాడు. తర్వాత మరొక కష్టమర్ మిగిలిన పెన్సులలో 20% కొనుగోలు చేసాడు. ఆ తర్వాత మరొక కష్టమర్ మిగిలిన పెన్సులలో 25% కొనుగోలు చేసాడు. చివరగా, జయ తన దుకాణంలో 270 పెన్సులు మిగిలాయి. ఆమె దుకాణంలో మొదట్లో ఎన్ని పెన్సులు ఉన్నాయి?  
1. 600                      2. 450  
3. 700                      4. 500
25. 100 ప్రశ్నలతో కూడిన ప్రాథమిక పరీక్ష రికార్డు లింగ్ ఏజెన్సీ ద్వారా నిర్వహించబడినది. మాధురి ఆ పరీక్షలో పాల్గొని మరియు అందులోని అన్ని ప్రశ్నలను రాసింది. ప్రతి సరైన సమాధానానికి 1 మార్కు ఇవ్వబడుతుంది, తప్పు సమాధానానికి ఈ క్రింది విధంగా జరిమానా విధించబడుతుంది.  
1. ఐదవ వంతు ప్రశ్నలకు 1/10 నెగెటివ్ మార్కులు ఉంటాయి.  
2. పదో వంతు ప్రశ్నలకు 1/5 నెగెటివ్ మార్కులు ఉంటాయి.  
3. మిగిలిన ప్రశ్నలకు 1/2 నెగెటివ్ మార్కులు ఉంటాయి.  
అసలు ప్రయత్నించని ప్రశ్నలకు 0 మార్కులు ఉంటాయి. మాధురి సాధించిన గరిష్ట మరియు కనిష్ట మార్కులు వరుసగా ఎక్స్ మరియు వై అయితే అవుడు (ఎక్స్-వై)/17.375 విలువ :  
1. 4                          2. 6  
3. 2                          4. 8
26. ఒక తరగతి గదిలో ఒక ఉపాధ్యాయుడు సంఖ్యల కారకాల యొక్క ఉత్పత్తి, దాని అంకెల యొక్క కారకాంశాల మొత్తం, వంటి లక్షణం ఉన్న 2 అంకెల సంఖ్యలు ఎన్ని ఉన్నాయి అని అడిగారు. అప్పుడు అక్కడ ఉన్న విద్యార్థుల సమాధానం ఏమిటి?  
1. 56                          2. 63  
3. 64                          4. 72
27. కృష్ణ, సురేష్ మరియు రాఘవ కలిసి రూ. 15,000, రూ. 18,000 మరియు రూ. 20,000 ప్రారంభ పెట్టుబడులతో వ్యాపారం ప్రారంభించారు. ఒక సంవత్సరం తర్వాత కృష్ణ మరియు సురేష్ తమ పెట్టుబడులను వరుసగా రూ. 5,000 ఉపసంహరించుకున్నారు. మరో ఏడాది తర్వాత కృష్ణ, సురేష్ మరియు రాఘవ వరుసగా 20%, 25% మరియు 40% చొప్పున తమ పెట్టుబడులను పెంచుకున్నారు. రాఘవ తన అదనపు పనికోసం వారికి వచ్చిన మొత్తం లాభంలో 20% పొందుతాడు మరియు మిగిలిన లాభం వారి పెట్టుబడుల ప్రకారం పంపిణీ చేయబడుతుంది అని నిర్ణయించబడినది. 3 సంవత్సరాల తర్వాత, వారికి లభించిన మొత్తం లాభం రూ. 53,400. రాఘవ పొందిన అదనపు లాభం మినహాయించబడితే, కృష్ణ, సురేష్ మరియు రాఘవ యొక్క లాభాల షేర్ నిష్పత్తిని కనుగొనండి.  
1. 56:63:53                      2. 53:63:56  
3. 59:63:56                      4. 69:63:59
28. జాన్ వద్ద ఉన్న పిగ్గి బ్యాంకులో 25 పైలు, 50 పైసలు మరియు 1 రూపాయి నాణేలు ఉన్నాయి. అందులో మొత్తం 220 నాణేలు ఉన్నాయి మరియు పిగ్గి బ్యాంకులో ఉన్న మొత్తం రూ. 160. 25 పైసల నాణేలు కంటే 1 రూపాయి నాణేలు మూడురెట్లు ఎక్కువ ఉంటే, పిగ్గి బ్యాంకులో ఉన్న 50 పైసల నాణేల సంఖ్య ఎంత?  
1. 45                          2. 40  
3. 60                          4. 80
29. షేఖర్ 3:2 నిష్పత్తిలో భాస్కర్ కు 20 లీటర్ల పాలు మరియు నీరు కలిగిన ద్రవాన్ని పంపిణీ చేసాడు. భాస్కర్ అందులో నుండి 10 లీటర్లు తీసివేసి, దాని స్థానంలో స్వచ్ఛమైన పాలను కలిపి మరియు దానిని కార్టిక్ కు అందించాడు మరియు కార్టిక్ ఈ విధానాన్ని పునరావృతం చేసి వరుణ్ కు అందించాడు. వరుణ్

- అందుకున్న ద్రావణంలో పాలు మరియు నీటి నిష్పత్తి ఎంత?  
1. 3:2                          2. 4:1  
3. 7:3                          4. 9:1
30. కొత్త సంవత్సరం పార్టీలో మొత్తం అతిథులలో 60% మంది మహిళలు. 80% మంది అతిథులు వివాహిత జంటలు (భార్యభర్తల జంటగా ఉంటారు) మరియు మిగిలిన వారు అవివాహితులు అయితే, ఈ క్రింది వాంగ్మూలాలలో ఏవి సరైనవి?  
1. పురుషులందరూ వివాహితులే  
2. 30% కంటే ఎక్కువ మంది మహిళలు అవివాహితులు  
దిగువ ఇవ్వబడిన కోడ్లను ఉపయోగించి సరైన సమాధానాన్ని ఎంచుకోండి :  
1. 1 మాత్రమే  
2. 2 మాత్రమే  
3. 1 మరియు 2 రెండూ  
4. 1 మరియు 2 రెండూ కాదు.
31. ఒక వంటగది యొక్క రాక్ లో ఆరు పెట్టెలు ఒకదానిపై ఒకటి ఉంచబడతాయి. ఎరుపు పెట్టె నీలం పెట్టె పైన ఉంది. ఊదారంగు పెట్టె నలుపు మరియు ఆకుపచ్చ పెట్టెల మధ్య ఉంది. పసుపు పెట్టె ఎరుపు మరియు నలుపు పెట్టెల మధ్య ఉంది.



- పెట్టెలు పై నుండి కిందికి 1 నుండి 6 వరకు లెక్కించబడితే, ఆకుపచ్చ మరియు ఎరుపు పెట్టె స్థానం మధ్య వ్యత్యాసం 'డి'. అయితే డి 3/2 విలువ ఎంత?  
1. 4                          2. 13.5  
3. 0.5                          4. 32
32. ఒక ఛాయాచిత్రంలో ఉన్న అబ్బాయిని చూపిస్తూ భార్య ఇలా అన్నాడు. ఎడమవైపు కూర్చున్న అబ్బాయి నా తమ్ముడి నానమ్మ ఒక్కానొక్క కొడుకు భార్య కొడుకు. ఫోటోలో ఉన్న అబ్బాయికి మరియు భార్యకీ మధ్య సంబంధం ఏమిటి?  
1. సోదరులు  
2. మేనల్లుడు మరియు మామ  
3. ఇద్దరూ దాయాదులు  
4. తండ్రి సోదరులు.
33. ఈ క్రింది ప్రకటనలను పరిగణించండి :  
1. అన్ని వైపులా సమానంగా ఉండే సమాంతర చతుర్భుజం రాంబస్ అవుతుంది.  
2. అన్ని రాంబస్లు సమాంతర చతుర్భుజాలు, కానీ అన్ని సమాంతర చతుర్భుజాలు రాంబస్లు కావు.  
3. రాంబస్ చతురస్రంగా ఉండవచ్చు లేదా ఉండకపోవచ్చు కానీ అన్ని చతురస్రాలు రాంబస్లు. పైన ఇచ్చిన ప్రకటనలలో ఏవి సరైనవి?  
1. 1 మరియు 2 మాత్రమే  
2. 2 మరియు 3 మాత్రమే  
3. 1 మరియు 3 మాత్రమే  
4. పైవన్నీ
34. వైరస్ బిగించడానికి ఒక ఎలక్ట్రిక్ లైన్ మ్యాన్ 50 మీటర్ల ఎత్తు ఉన్న స్తంభంపైకి ఎక్కాలి. మొదటి

- నిమిషంలో 5 మీటర్లు పైకి ఎగబాకగా, తర్వాత నిమిషంలో 2 మీటర్ల మేర కిందకు జారిపోయాడు. అతను పోల్ పైకి చేరేవరకు అదే విధానాన్ని పునరావృతం చేసాడు. అయితే అతను 24వ నిమిషంలో ఎంత ఎత్తులో ఉంటాడు మరియు పోల్ పైకి చేరుకోవటానికి అతను ఎన్నిసార్లు పైకి వెళ్ళాలి?  
1. 41 మీటర్లు, 12  
2. 39 మీటర్లు, 11  
3. 36 మీటర్లు, 16  
4. 42 మీటర్లు, 18
35. సందీప్ కొంత మొత్తాన్ని రిలయన్స్ ఇన్ఫ్రా ప్రైవేట్ లిమిటెడ్ లో పెట్టుబడి పెట్టాడు. ఇది 5% పి.ఎ. సమ్మేళనం వడ్డీని (సంవత్సరానికి వడ్డీ కలిపే పద్ధతిలో) అందిస్తుంది మరియు ఆ మొత్తంలో 50%కి సమానమైన మొత్తాన్ని రిలయన్స్ జియోలో పెట్టుబడి పెట్టాడు. ఇది 10%పి.ఎ. సమ్మేళనం వడ్డీని (సంవత్సరానికి వడ్డీ కలిపే పద్ధతిలో) అందిస్తుంది. రెండు కంపెనీలకు పెట్టుబడి వ్యవధి 2 సంవత్సరాలు. ఆ రెండు కంపెనీల నుండి పొందిన మొత్తానికి మధ్య వ్యత్యాసం రూ. 6,965 అయితే, ఆ రెండు కంపెనీల్లో పెట్టుబడి పెట్టిన మొత్తాలకి మధ్య తేడా ఎంత?  
1. రూ. 7,000                      2. రూ. 8,400  
3. రూ. 7,900                      4. రూ. 6,600
36. కల్పన ప్రాజెక్టు రిపోర్టులో 40 పేజీలు ఉన్నాయి.

- డిగ్రీల సవ్యదిశలో తిరుగుతాడు. అతను ఇప్పుడు ఏ దిశలో ఉన్నాడు.  
1. వాయువ్య                      2. నైరుతి  
3. ఈశాన్య                      4. అగ్నేయ
41.  $8.92 \times 4.15 \times 7.69 \times ? = 1565.67631$  అయితే ? స్థానంలో వచ్చు విలువ ఎంత?  
1. 6.18                          2. 4.96  
3. 4.84                          4. 5.5
42. పవన్ 5 సబ్జెక్టులలో పరీక్షకు హాజరయ్యాడు. ప్రతి సబ్జెక్టుకు గరిష్ట మార్కులు ఒకే విధంగా ఉంటాయి. ఈ 5 సబ్జెక్టులలో అతని మార్కులు 4:5:6:7:8 నిష్పత్తిలో ఉన్నాయి మరియు మొత్తంగా అతను 60% స్కోర్ చేసాడు. అతను ఎన్ని సబ్జెక్టులలో గరిష్ట మార్కులలో 50% కంటే తక్కువ స్కోర్ చేసాడు?  
1. 1                                  2. 2  
3. 3                                  4. 4
43. 'కె' ప్రశ్నలు ఉన్న ఫారమ్-ఎని పూర్తి చేయడానికి మధుకు 2టి నిమిషాలు పడుతుంది మరియు కె/2 ప్రశ్నలు ఉన్న ఫారమ్-బి ని పూర్తి చేయడానికి 3టి నిమిషాలు పడుతుంది. మధు అన్ని ప్రశ్నలకు సమాధానమిస్తే, అతను ఫారమ్-ఎ ప్రశ్నకు సమాధానం ఇవ్వడానికి తీసుకునే సగటు కంటే ఫారమ్-బి ప్రశ్నకు సమాధానం ఇవ్వడానికి సగటున ఎంత ఎక్కువ సమయం తీసుకుంటాడు?  
1. 2టికి                              2. 8 టి/కె  
3. 4 టి/కె                              4. టి/కె
44. ఒక ఫార్యాస్యూటికల్ సైన్సెస్ ప్రొఫెసర్ తన క్లస్ రూమ్ లో ఔషధ పదార్థం యొక్క అర్థాయువు అంటే ఆ పదార్థం దానిలో సగం మాత్రమే అయ్యే సమయ వ్యవధి అని నిర్వచించారు. అడ్రినలిన్ ఔషధం యొక్క అర్థాయువు 800 సంవత్సరాలు అయితే, 3200 సంవత్సరాల తర్వాత 1200 గ్రాముల అడ్రినలిన్ 'ఎక్స్' గ్రాములు అవుతుంది. క్రింది వాటిలో 'ఎక్స్' లోని అన్ని అంకెల మొత్తానికి సాధ్యమయ్యే విలువ ఏది?  
1. 12                                  2. 28.5  
3. 22.5                                  4. 37.5
45. చంద్ర గందరగోళంలో ఉన్న ఒక టైపిస్ట్. 600 నుండి 799 వరకు ఉన్న సంఖ్యలను టైప్ చేస్తున్నప్పుడు (రెండూ కలుపుకొని) అతను 6 టైప్ చేయాల్సిన చోట 8 అని టైప్ చేసాడు. అప్పుడు అతను 8 సంఖ్యను టైప్ చేసిన మొత్తం సంఖ్య :  
1. 180                                  2. 230  
3. 320                                  4. 300
46. ఈ క్రింది ఇవ్వబడిన శ్రేణిలో తప్పుగా ఉన్న అంకెను గుర్తించండి :  
193, 140, 97, 62, 35, 16, 5  
1. 62                                  2. 97  
3. 140                                  4. 193
47. గణేష్ తన పాదుపు రూ. 1,26, 588లో 50% అయోధ్య ట్రస్ట్ కి విరాళంగా ఇచ్చాడు మరియు మిగిలిన మొత్తాన్ని సంవత్సరానికి 10% చక్రవడ్డీకి, విడివిడిగా తన పిల్లలు కృష్ణ మరియు వేదల కోసం పెట్టుబడి పెట్టారు. 18 సంవత్సరాలు నిండిన తరువాత, వారు ఇద్దరు ఆ ఒకే మొత్తాన్ని అందుకుంటారు. కృష్ణ యొక్క వయస్సు 11 సంవత్సరాలు. అప్పుడు వేద కోసం తప్పనిసరిగా పెట్టుబడి పెట్టిన మొత్తం :  
1. రూ. 28,204                      2. రూ. 28,640  
3. రూ. 26,840                      4. రూ. 28,460

**జవాబులు :**

1)1	2)3	3)4	4)2	5)4	6)1
7)4	8)2	9)2	10)2	11)2	12)3
13)3	14)3	15)1	16)4	17)3	18)1
19)1	20)2	21)1	22)2	23)4	24)4
25)4	26)2	27)3	28)3	29)4	30)3
31)4	32)1	33)4	34)3	35)1	36)3
37)4	38)1	39)4	40)2	41)4	42)1
43)3	44)1	45)1	46)4	47)2	



పోటీ పరీక్షల ప్రత్యేకం

APPSC, TSPSC Group-1, 2 DSC Police Exams

కరెంట్ అఫైర్స్

- 1. జాతీయ అంతరిక్ష దినోత్సవాన్ని ఏ రోజున జరుపుకోవాలని కేంద్ర ప్రభుత్వం నిర్ణయించింది? ఎ. జనవరి 5 బి. ఫిబ్రవరి 28 సి. ఆగస్టు 23 డి. జూన్ 25

- ఎ. అమెరికా బి. రష్యా సి. చైనా డి. జపాన్
- 11. ప్రళయ క్షిపణి అభివృద్ధి చేసిన సంస్థ? ఎ. ఇస్రో బి. బిడిఎల్ సి. డిఆర్డిఓ డి. హెచ్ఎఎల్

- ఉంది? ఎ. జమ్మూ & కాశ్మీర్ బి. కజకిస్తాన్ సి. హిమాచల్ ప్రదేశ్ డి. జపాన్
- 16. మానవ సహాయం లేకుండా అత్యంత పొడవైన మార్షిన్ నావిగేషన్ కోసం రికార్డు సృష్టించిన నాసా రోపర్ ఏది? ఎ. స్పిరిట్ బి. క్యూరియోసిటీ సి. వర్జర్వెన్స్ డి. ఆపర్చునిటీ

- భారతదేశంలో క్రోమ్ బుకెలను తయారు చేయటానికి గూగుల్తో ఏ కంపెనీ సహకరిస్తున్నది? ఎ. గూగుల్ బి. లెనోవో సి. డెల్ డి. హెచ్పి
- 20. పిఎస్ఎల్వి సి-56 ద్వారా ఇస్రో అంతరిక్షంలోకి ప్రవేశపెట్టిన డిఎస్-సార్ శాటిలైట్ ఏ దేశానికి సంబంధించినది? ఎ. ఇండియా బి. రష్యా సి. సింగపూర్ డి. ఫ్రాన్స్



సి. విజయవాడ డి. ఢిల్లీ సి. ఐటిఎం మద్రాసు డి. ఐటిఎం గోరఖపూర్

- జవాబులు : 1)సి, 2)ఎ, 3)సి, 4)బి, 5)డి, 6)డి, 7)బి, 8)ఎ, 9)బి, 10)సి, 11)సి, 12)బి, 13)ఎ, 14)బి, 15)సి, 16)సి, 17)డి, 18)బి, 19)డి, 20)సి, 21)బి, 22)బి, 23)ఎ, 24)ఎ, 25)ఎ

విద్య, ఉద్యోగ సమాచారం

JEE అడ్వాన్స్డ్ రిజిస్ట్రేషన్ ప్రారంభం.. జేఈఈ మెయిన్ ఫలితాలు వెలువడ్డాయి. ఈ ఫలితాల్లో దేశవ్యాప్తంగా 56 మంది 100 పర్సెంట్లో సోగ్గు సాధించగా, వీరిలో 22 మంది తెలుగు విద్యార్థులే ఉండటం విశేషం. జేఈఈ అడ్వాన్స్డ్ 2024 రిజిస్ట్రేషన్ ప్రారంభ మయ్యాయి. జేఈఈ మెయిన్లో కటాఫ్ మార్కులు పొంది ఉత్తీర్ణత సాధించిన 2.50 లక్షల మంది అభ్యర్థులకి జేఈఈ అడ్వాన్స్డ్ పరీక్ష రాసేందుకు అవకాశం ఉంటుంది.

చేయాలి. రిజిస్ట్రేషన్ ఫీజు చెల్లించి.. మీ అప్లికేషన్ ను సమర్పించాలి. తరువాత అప్లికేషన్ డాన్లోడ్ చేసుకుని ప్రింట్ తీసుకోవాలి. తెలంగాణ ఇంటర్ మార్కుల మెమోలు విడుదల.. తెలంగాణ ఇంటర్మీడియట్ ఫలితాలు ఏప్రిల్ 24 న విడుదలైనాయి. తెలంగాణ ఇంటర్ మార్కుల షార్ట్ మెమోలను బోర్డు ఆఫ్ ఇంటర్మీడియట్ ఎడ్యుకేషన్ వెబ్సైట్లో అందుబాటులోకి తీసుకొచ్చింది. తెలంగాణ ఇంటర్మీడియట్ ఫలితాల్లో 62 శాతం ఉత్తీర్ణత నమోదైంది. ప్రథమ సంవత్సరంలో 2.87 లక్షల మంది, ద్వితీయ సంవత్సరంలో 3.22 లక్షల మంది ఉత్తీర్ణత సాధించారు. విద్యార్థులు తమ హాల్ టికెట్ నంబర్ నమోదు చేయడం ద్వారా షార్ట్ మెమో పొందొచ్చు. ఏపీ ఓపెన్ స్కూల్ 10వ తరగతి, ఇంటర్ ఫలితాలు విడుదల.. ఆంధ్రప్రదేశ్ ఓపెన్ స్కూల్ సాసైటీ 10వ తరగతి, ఇంటర్మీడియట్ పరీక్షల ఫలితాలు విడుదలైనాయి. విద్యార్థుల మార్కుల జాబితాలు స్టడీ కేంద్రాల్లో తీసుకోవాలి. ఈ ఏడాది 10వ తరగతి పరీక్షలకు 32,581 మంది, ఇంటర్మీడియట్ పరీక్షలకు 73,550 మంది విద్యార్థులు హాజరయ్యారు. 10వ తరగతిలో 18,185 మంది (55.81శాతం) మంది.. ఇంటర్లో 48,377 మంది (65.77శాతం) ఉత్తీర్ణత సాధించారు.

తెలంగాణ ఓపెన్ స్కూల్ 2023-24 విద్యా సంవత్సరానికి పరీక్షలు ఏప్రిల్ 25 నుంచి మే 2వ తేదీ వరకు జరుగుతాయి. ప్రాక్టికల్ పరీక్షలు మే 3 న ప్రారంభమై మే 10 వరకు జరుగుతాయి. ఏపీ సెట్ 2024 హాల్ టికెట్లు విడుదలయ్యాయి. ఏపీ సెట్-2024 హాల్ టికెట్లు విడుదలయ్యాయి. అభ్యర్థులు అధికారిక వెబ్సైట్లో https://apset.net.in నుంచి ఈ-మెయిల్ ఐడీ లేదా మొబైల్ నెంబర్, పుట్టిన తేదీ నమోదు చేసి హాల్ టికెట్లు డౌన్లోడ్ చేసుకోవచ్చు. ఏపీ సెట్ 2024 పరీక్షను ఏప్రిల్ 28వ తేదీన ఆంధ్ర యూనివర్సిటీ నిర్వహిస్తోంది. రాష్ట్రంలోని కాలేజీలు, యూనివర్సిటీల్లో ఆన్లైన్లో ప్రాప్సర్లు, డిగ్రీ లెక్చరర్లుగా ఉద్యోగాలు పొందాలంటే ఏపీ సెట్ అర్హత తప్పనిసరి. ఏపీ సెట్ 2024 పరీక్ష విధానం : ఏపీ సెట్ పరీక్షను రెండు పేపర్లలో నిర్వహిస్తారు. పేపర్-1 జనరల్ స్టడీస్, టీచింగ్ అండ్ రీసెర్చ్ ఆఫ్ ట్యూట్ అంశాలపై ప్రశ్నలుంటాయి. పేపర్-2 లో సబ్జెక్ట్ స్పెషలైజేషన్లో ఉంటుంది. సెట్ పరీక్ష అప్లికేషన్ విధానంలో నిర్వహిస్తారు. ఒకటి రోజున పరీక్షను రెండు సెషన్లలో నిర్వహిస్తారు. పేపర్-1లో 50 ప్రశ్నలకు 100 మార్కులు, పేపర్-2లో 100 ప్రశ్నలకు 200 మార్కులుంటాయి. ఏపీ సెట్ 2024 పరీక్ష వ్యవధి 3 గంటలు. ఏపీలోని విశాఖపట్నం, రాజమండ్రి, గుంటూరు, నెల్లూరు, అనంతపురం, తిరుపతి, కడప, కర్నూలు పరీక్ష కేంద్రాల్లో పరీక్ష నిర్వహిస్తారు. ఏపీ 10వ తరగతి ఫలితాలు... ఏపీ పదో తరగతి ఫలితాలు ఏప్రిల్ 22 విడుదల

య్యాయి. ఈ ఫలితాల్లో 86.69 శాతం ఉత్తీర్ణత నమోదైంది. ఫలితాల్లో బాలికలు పైచేయి సాధించారు. బాలికలు 89.17 శాతం ఉత్తీర్ణత సాధించగా, బాలురు 84.32 శాతం పాసయ్యారు. 2,803 పాఠశాలలు 100 శాతం, 17 స్కూల్లో సున్నా ఉత్తీర్ణత నమోదైంది. ఆకుల వెంకట నాగసాయి మనస్వి 600 మార్కులకు 599 మార్కులతో రికార్డ్ సృష్టించారు. సెకండ్ లాంగ్వేజీలో 99 మార్కులు వచ్చాయి. మిగిలిన సబ్జెక్టుల్లో 100కి 100 మార్కులు వచ్చాయి. తెలంగాణలో 91.31 శాతం ఉత్తీర్ణత తెలంగాణ పదో తరగతి ఫలితాలు ఏప్రిల్ 30న విడుదలయ్యాయి. టెన్త్ ఫలితాల్లో 91.31 శాతం ఉత్తీర్ణత నమోదైంది. బాలికలు 93.23 శాతం, బాలురు 89.42 శాతం ఉత్తీర్ణత సాధించారు. 3,927 స్కూల్లో 100 శాతం ఉత్తీర్ణత నమోదు కాగా, ఆరు స్కూల్లో జీరో ఉత్తీర్ణత శాతం నమోదైంది. మొత్తం 5,05,813 మంది విద్యార్థులు పరీక్షలకు హాజరు కాగా 4,91,862 మంది విద్యార్థులు పాస్ అయ్యారు. ఇకపై ఏడాదికి రెండుసార్లు 10, 12వ తరగతి పరీక్షలు..! సెంట్రల్ బోర్డు ఆఫ్ సెకండరీ ఎడ్యుకేషన్ బోర్డు పరీక్షలను ప్రతిఏటా రెండుసార్లు నిర్వహించడానికి ప్రణాళికలు రూపొందిస్తోంది. 2025-26 విద్యా సంవత్సరం నుంచి ఈ విధానం అమలు చేయాలని భావిస్తున్నారు. కేంద్ర ప్రభుత్వం తీసుకొచ్చిన జాతీయ నూతన విద్యా విధానానికి అనుగుణంగా సీబీఎన్ఈ పరీక్షల్లో మార్కులు తేలాలని ఇస్రో మాజీ చైర్మన్ కే కస్తూరి రంగన్ సారథ్యంలోని నేషనల్ కరికలం ఫ్రేమ్ వర్క్ ముసాయిదా కమిటీ సూచించింది.

# TSPSC Group-I Group-II Exams

# తెలంగాణ జాగ్రఫీ

- తెలంగాణ రాష్ట్రంలో పసుపుబోర్డును ఏర్పాటు చేయాలని ఇటీవల ఏ జిల్లా ప్రజలు ఆందోళన చేపట్టారు?**
  1. ఆదిలాబాద్
  2. నిజామాబాద్
  3. నిర్మల్
  4. కామారెడ్డి
- క్రింది వాటిని జతపరుచుము**  
మండలం ప్రధాన కార్యాలయం
  1. ఉత్తర తెలంగాణ ఎ. చింతపల్లి
  2. మధ్య తెలంగాణ బి. పాలెం
  3. దక్షిణ తెలంగాణ సి. వరంగల్
  4. గిరిజన ప్రాంతం డి. జగిత్యాల
- క్రింది వాటిలో సరైన అంశాలను పరిశీలింపుము**  
ఎ. 'అడ్సాలి' కాలపు చెరుకు పంట నిజామాబాద్ జిల్లాలో పండిస్తున్నారు.  
బి. చెఱుకు పంటకు వచ్చే వ్యాధిని 'ఎర్రతెగులు' అంటారు.  
సి. చెఱుకు పంటకాలం 11 నుండి 12 నెలలు డి. చెఱుకు అన్ని కాలాల్లో పండిస్తున్నారు.
  1. ఎ మరియు బి
  2. బి మరియు సి
  3. ఎ, బి మరియు సి
  4. ఎ, బి, సి మరియు డి
- క్రింది వాటిని పరిశీలింపుము**  
ప్రతిపాదన (ఎ) - రబీ కాలంలో పండుచున్న ముఖ్యమైన పంట గోధుమ కారణం (ఆర్) - రబీ కాలాన్ని తెలంగాణలో యాసంగి అని పిలుస్తారు.
  1. (ఎ) నిజమైంది కాని (ఆర్) నిజమైంది కాదు.
  2. (ఎ) నిజమైంది కాదు కాని (ఆర్) నిజమైంది.
  3. (ఎ) మరియు (ఆర్) రెండూ సరైనవే కాని (ఎ)కి (ఆర్) సరైన వివరణ కాదు.
  4. (ఎ) మరియు (ఆర్) రెండూ సరైనవే మరియు (ఎ)కి (ఆర్) సరైన వివరణ
- క్రింది వాటిని జతపరుచుము**  
పంటలు ఉత్పత్తి
  1. చెరుకు ఎ. ఖమ్మం
  2. పత్తి బి. కరీంనగర్
  3. వరి సి. ఆదిలాబాద్
  4. పొగాకు డి. మెదక్
- క్రింది వాటిలో సరికాని జత ఏది?**
  1. తృణధాన్యము - మొక్కజొన్న
  2. చిరుధాన్యము - జొన్నలు
  3. నారపంట - చెరుకు
  4. తోటపంట - కాఫీ
- క్రింది వాటిలో సరైన ప్రవచనాలను గుర్తించుము**  
ఎ. తెలంగాణ రాష్ట్రం భారతదేశానికి 40% విత్తనాలను ఉత్పత్తి చేస్తుంది.  
బి. తెలంగాణ రాష్ట్రము విత్తనాల రాష్ట్రంగా పిలుస్తున్నారు.  
సి. హైద్రాబాద్ జొన్న, బాజ్రా విత్తనాలు నిజామాబాద్ నుండి సేకరిస్తున్నారు.  
డి. దేశంలో హైద్రాబాద్ వరి విత్తనాలలో 90-95 శాతం కరీంనగర్ నుండి ఉత్పత్తి చేస్తున్నారు.
  1. ఎ మరియు బి
  2. బి మరియు సి
  3. ఎ, బి మరియు సి
  4. ఎ, బి, సి మరియు డి
- పరిపంటను ప్రధానంగా పండించే కాలము**
  1. అఖి కాలం
  2. యాసంగి కాలం
  3. జియోడ్ కాలం
  4. పైవేవీ కావు
- పత్తిపంటకి సంబంధించి సరైన అంశాలను ఎంచుకోండి**  
ఎ. పత్తిని తెల్లబంగారం అని పిలుస్తారు.  
బి. పత్తిపంట నల్లరేగడి నేలలకు అనుకూలమైనది.  
సి. పత్తి ఉత్పత్తిలో ప్రధాన జిల్లా ఆదిలాబాద్ డి. పత్తి పండించడానికి ఉష్ణోగ్రత 20డిగ్రీల సెం.-32డిగ్రీల సెం. అవసరం
  1. ఎ మరియు బి
  2. బి మరియు సి

3. ఎ, బి మరియు సి
4. ఎ, బి, సి మరియు డి
- 10. దేశంలోని పశుసంపదలో తెలంగాణ రాష్ట్ర స్థానాలను జతపరుచుము.**
  1. గొర్రెల పెంపకం ఎ. 13వ స్థానం
  2. కోడిగుడ్ల ఉత్పత్తి బి. 3వ స్థానం
  3. పాల ఉత్పత్తి సి. 1వ స్థానం
  4. మాంసం డి. 5వ స్థానం
- 11. చేనేత మిత్ర పథకాన్ని ఎప్పుడు ప్రారంభించారు?**
  1. జూన్ 02, 2016
  2. జనవరి 01, 2017
  3. మే 20, 2017
  4. జూన్ 17, 2017
- 12. క్రింది వాటిని పరిశీలింపుము**  
ప్రతిపాదన (ఎ) - తెలంగాణ బియ్యపుగిన్నె అని కరీంనగర్ ని పిలుస్తారు.  
కారణం (ఆర్) - తెలంగాణలో వరి ఉత్పత్తిలో ప్రధాన జిల్లా కరీంనగర్
  1. (ఎ) మరియు (ఆర్) రెండూ సరైనవే మరియు (ఎ) కి (ఆర్) సరైన వివరణ



## తెలంగాణ వ్యవసాయం

2. (ఎ) మరియు (ఆర్) రెండూ సరైనవే మరియు (ఎ) కి (ఆర్) సరైన వివరణ కాదు.
3. (ఎ) నిజమైంది కాని (ఆర్) నిజమైంది కాదు.
4. (ఎ) నిజమైంది కాదు కాని (ఆర్) నిజమైంది.
- 13. క్రింది వాటిని జతపరుచుము**
  1. వ్యవసాయ పరిశోధనా కేంద్రం ఎ. పోలాస్
  2. నేషనల్ రీసెర్చ్ సెంటర్ ఆన్ మీట్ బి. ఉప్పల్
  3. పసుపు బోర్డు కేంద్రం సి. నిజామాబాద్
  4. ఆయల్ సీడ్స్ రీసెర్చ్ ఇన్స్టిట్యూట్ డి. హైద్రాబాద్
- 14. దేశ విత్తన రాజధాని అని దేనిని పిలుస్తారు?**
  1. ఆంధ్రప్రదేశ్
  2. తెలంగాణ
  3. మధ్యప్రదేశ్
  4. ఉత్తరప్రదేశ్
- 15. క్రింది వాటిలో సరికాని అంశాన్ని ఎంచుకోండి?**
  1. జియోడ్ (జైద్) కాలంలో పుచ్చకాయలు, కూరగాయలు, ఆకుకూరలు పండిస్తున్నారు.
  2. జైద్ కాలంలో కుకుర్బిటిని కుటుంబానికి చెందిన పంటలు పండిస్తున్నారు.
  3. జైద్ కాలం పంటకాలం మార్చి నుండి మే వరకు.
  4. జైద్ కాలాన్ని వేసవికాలంతో ఏకీకరిస్తారు.
- 16. క్రింది వాటిని జతపరుచుము**  
పెంపకం పేరు అంశం
  1. చేపలు ఎ. పిసి కల్చర్
  2. ద్రాక్ష తోటలు బి. విఠ్ఠికల్చర్
  3. ఉద్యానవన పంటలు సి. హార్టికల్చర్
  4. పట్టుపురుగులు డి. సెరికల్చర్

3. 1-సి, 2-డి, 3-బి, 4-ఎ
4. 1-బి, 2-డి, 3-ఎ, 4-సి
- 17. లేగదూడ ఆహార సబ్సిడీ కార్యక్రమం ఏది?**
  1. నర్దిమూట పథకం
  2. నీలి విప్లవం
  3. గొర్రెల పంపిణీ కార్యక్రమం
  4. సునందిని
- 18. క్రింది వాటిని జతపరుచుము**
  1. తెల్ల బంగారం ఎ. జనుము
  2. సోమరిపంట బి. జొన్న
  3. పేదవాడి ఆహారం సి. చెఱుకు
  4. బంగారు పీచు డి. పత్తి
- 19. వరంగల్ జిల్లాలో ఏ రకమైన పత్తిని అధికంగా ఉత్పత్తి చేస్తున్నారు?**
  1. పొడుగు గింజ పత్తి
  2. చపాటి రకపు
  3. సముద్ర పత్తిగింజ
  4. పైవేవీ కావు
- 20. క్రింది వాటిలో ఏ జాతికి చెందిన గొర్రెలు తెలంగాణలో ఉన్నాయి?**
  - ఎ. డెక్కన్ జాతి
  - బి. నెల్లూరు జాతి

3. ఎరుపు విప్లవం సి. కోడిగుడ్లు
4. బూడిద విప్లవం డి. బంగాళదుంపలు
1. 1-సి, 2-డి, 3-ఎ, 4-బి
2. 1-ఎ, 2-బి, 3-సి, 4-డి
3. 1-డి, 2-సి, 3-బి, 4-ఎ
4. 1-బి, 2-డి, 3-ఎ, 4-సి
- 25. తెలంగాణ రాష్ట్రంలో లభించు ముఖ్యమైన పట్టు ఏది?**
  - ఎ. టున్నర్ పట్టు
  - బి. మల్బరీ పట్టు
  - సి. ఈరి పట్టు
  - డి. ముంగా పట్టు
1. ఎ మరియు బి
2. బి మరియు సి
3. ఎ, బి మరియు సి
4. ఎ, బి, సి మరియు డి
- 26. జొన్న పంటకి సంబంధించిన అంశాలను సరైనవి ఎంచుకోండి**
  - ఎ. హైలైడ్ జొన్న విత్తనాలను నిజామాబాద్ నుండి సేకరిస్తున్నారు.
  - బి. జొన్నపంట ఎర్ర, నల్లరేగడి, ఇసుక నేలల్లో పండిస్తున్నారు.
  - సి. జొన్న పంట ఉత్పత్తిలో మహబూబ్ నగర్ జిల్లా ఉన్నది.
  - డి. జొన్న పంట రాష్ట్రంలో రెండవ ప్రధానపంటగా ఉన్నది.
1. ఎ మరియు బి
2. బి మరియు సి
3. ఎ, బి మరియు సి
4. ఎ, బి, సి మరియు డి
- 27. తెలంగాణ రాష్ట్రంలో ఔషధ మొక్కలు మత్తు పదార్థాలను ఇచ్చే మొక్కలు, తోట పంటలు విస్తీర్ణం అధికంగా గల జిల్లాలు పరుసగా గుర్తించండి.**
  1. మహబూబ్ నగర్, ఖమ్మం
  2. ఖమ్మం, మహబూబ్ నగర్, నల్గొండ
  3. నల్గొండ, మహబూబ్ నగర్, ఖమ్మం
  4. మహబూబ్ నగర్, నల్గొండ, ఖమ్మం.
- 28. క్రింది వాటిలో సరికానిది గుర్తించండి.**
  1. పసుపు పంట విస్తీర్ణంలో దేశంలో ప్రథమ స్థానంలో ఉన్నాం.
  2. పసుపు పంట కోసం తెలిపేది పసుపు విప్లవం.
  3. పసుపు ఉత్పత్తిలో నిజామాబాద్ జిల్లా ఉంది.
  4. పసుపు ఉత్పాదకతలో ఆదిలాబాద్ జిల్లా.
- 29. క్రింది వాటిలో సరైన అంశాలను గుర్తించండి.**
  - ఎ. కోడిగుడ్ల ఉత్పత్తిలో తెలంగాణ రాష్ట్రం మూడవ స్థానాన్ని కలిగి ఉంది.
  - బి. కోడిగుడ్ల ఉత్పత్తి కోసం చేసే విప్లవం వెండి విప్లవం.
  - సి. పొల్లీ ఫామ్ పితామహుడు బి.వి. రావు.
  - డి. జాతీయ కోడిగుడ్ల పరిశోధన కేంద్రం - హైదరాబాద్
1. ఎ మరియు బి
2. బి మరియు సి
3. ఎ, బి మరియు సి
4. ఎ, బి, సి మరియు డి
- 30. పరి పంటకి సంబంధించిన సరైన అంశాలను గుర్తించండి.**
  - ఎ. తెలంగాణ రాష్ట్రంలో ఎక్కువగా సాగుచేస్తున్న పరి సోనా పరి రకము.
  - బి. తెలంగాణ పరి పరిశోధన కేంద్రం-జగిత్యాల జిల్లాలోని పోలాస్
  - సి. సోనా పరికి జాతీయ స్థాయిలో గుర్తింపు లభించింది.
  - డి. సోనా పరి అధిక దిగుబడి సామర్థ్యం ఉన్నది.
1. ఎ మరియు బి
2. బి మరియు సి
3. ఎ, బి మరియు సి
4. ఎ, బి, సి మరియు డి
- 31. ఇక్రికాట్ ప్రస్తుతం ఏ జిల్లాలో ఉన్నది?**
  1. మెదక్
  2. నంగారెడ్డి
  3. సిద్దిపేట
  4. రంగారెడ్డి

పాదం సుధాకర్  
ఫ్యాకల్టీ, హైదరాబాద్.





